



## 第一部分 常识判断

(共 20 题, 参考时限 15 分钟)

根据题目要求, 在四个选项中选出一个正确答案。

请开始答题:

- 邓小平 ( ) 的著名讲话, 实际上是十一届三中全会的主题报告, 它是开创建设有中国特色社会主义新理论的宣言书。  
A. 建设有中国特色的社会主义  
B. 解放思想, 实事求是, 团结一致向前看  
C. 什么是社会主义, 怎样建设社会主义  
D. 实践是检验真理的唯一标准
- 我国外交政策中对外政策的基本立场是 ( )。  
A. 维护世界和平  
B. 促进共同发展  
C. 独立自主  
D. 和平共处五项原则
- 从唯物辩证法的观点看, 人类与黄种人、白种人之间的关系是 ( )。  
A. 质量和数量的关系  
B. 多数与少数的关系  
C. 思维与存在的关系  
D. 共性与个性的关系
- 以下有关世界贸易组织 (WTO) 的表述中, 不正确的一项是 ( )。  
A. WTO 的前身是关贸总协定, WTO 于 1995 年 1 月 1 日建立  
B. 部长会议是 WTO 的最高权力机构和决策机构  
C. WTO 总干事在部长会议休会期间, 行使部长会议的职权  
D. 2001 年 12 月 11 日, 中国以新成员的身份正式加入 WTO
- 依据我国现行民法规定, 自然人的民事权利始于 ( )。  
A. 受孕  
B. 出生  
C. 年满 16 周岁  
D. 年满 18 周岁
- 下列情况, 利害关系人可以向人民法院申请宣告其死亡的是 ( )。  
A. 甲 1980 年参加卫国战争, 战争期间失去音讯, 1989 年战争结束 2 年后仍无踪影  
B. 乙三年前在攀爬珠穆朗玛峰的途中遭遇雪崩, 至今下落不明  
C. 丁患有老年痴呆, 三年前与家人走失  
D. 戊于 10 年前外出打工, 不久后即与家人断绝联系, 不断有村民在某市见到他, 但其家人几次寻找未果



7. 下列选项中，需缴纳个人所得税的是（ ）。
- A.教师教龄津贴  
B.公务员加班补助  
C.政府特殊津贴  
D.监察办案人员补贴
8. 行政机关对当事人进行处罚时不使用罚款、没收财物单据或者使用非法部门制发的罚款、没收财物单据的，当事人（ ）。
- A.应先接受处罚，然后再依法申请行政复议或提起行政诉讼  
B.应先接受处罚，然后可以向上级行政机关进行检举  
C.有权拒绝处罚  
D.应当接受处罚
9. 在下列情形中，用人单位不得解除合同的是（ ）。
- A.劳动者患病或者负伤，在规定的医疗期内  
B.劳动者患病或者负伤，医疗期满的  
C.劳动者在试用期内的  
D.用人单位濒临破产进行法定整顿期间
10. 马哈蒂尔科学奖主要授予全球范围内通过科学技术解决热带各种问题作出贡献和革新的科学家、研究学术性机构及组织，我国首位获得马哈蒂尔科学奖的科学家是（ ）。
- A. 师昌绪  
B. 王振义  
C. 袁隆平  
D. 王选
11. 关于我国重大工程与建设项目，下列说法不正确的是（ ）。
- A.2011年拉萨至贡嘎机场高速公路通车，这是西藏第一条高速公路  
B.2010年我国首台实测性能超千万亿次的超级计算机——曙光“星云”高性能计算机系统在第三十五届全球超级计算机TOP500排行榜中排名第二  
C.2009年福建省第一条沿海快速铁路——福州至温州铁路铺轨工程全线贯通，闽苏两省结束了没有铁路相连接的历史  
D.2008年我国航天员翟志刚，首度实施空间出舱活动，茫茫太空第一次留下中国人的足迹
12. 下列关于货币的说法，不正确的一项是（ ）。
- A.货币的本质是从商品中分离出来的  
B.价值尺度和流通手段是货币的基本职能  
C.一定时期内流通中所需要的货币量与同一单位货币流通速度成正比  
D.充当价值尺度的职能不需要现实的货币；执行流通手段职能必须是现实的货币
13. 下列不属于政府采购行为的是（ ）。
- A.某县政府无偿接受某外国基金会捐赠的办公器材  
B.省政府雇用某建筑公司装修办公大楼

- C.某县政府购买复印机 20 台  
D.某局租赁会议厅一层作为国际性会议场地
14. 中国古代提出“人性本恶”的人是（ ）。
- A.孔子  
B.孟子  
C.荀子  
D.墨子
15. 道教是我国土生土长的宗教，它兴起于（ ）。
- A.春秋时期  
B.战国时期  
C.西汉时期  
D.东汉时期
16. 下列各项中内容搭配不当的是（ ）。
- A.圆周率——祖冲之  
B.闻鸡起舞——祖逖  
C.“大江东去，浪淘尽，千古风流人物”——辛弃疾  
D.宋江——《水浒传》
17. 在冬季，人们往往容易鼻子出血，因而常常在房间的地上洒一些水，或在室内放一盆清水、挂一些湿毛巾等。对以上做法最合理的解释是（ ）。
- A.北方天气冬季寒冷，室内有暖气，人们觉得热得受不了  
B.医学研究证明，冬季室内空气干燥，容易造成鼻腔血管壁的破裂  
C.富有的人家中有加湿器，不用在室内挂湿毛巾、洒水或放置水盆  
D.有些人患有特殊疾病，需要室内加湿，以预防疾病复发
18. 当龋齿伤害到牙的（ ）时，我们会感到疼痛。
- A.牙釉质  
B.牙髓  
C.牙本质  
D.牙腔
19. 艾滋病被称为“20 世纪的瘟疫”，艾滋病病毒人体内的（ ）作为攻击目标。
- A.红细胞  
B.血红蛋白  
C.淋巴细胞  
D.神经系统
20. 管理层次是指一个组织设立的行政等级的数目。管理幅度的大小与管理层次的多寡之间的关系是（ ）。
- A.正比例关系  
B.反比例关系  
C.均衡关系  
D.没有关系

※※※ 第一部分结束，请继续做第二部分！ ※※※



## 第二部分 言语理解与表达

(共 40 题, 参考时限 35 分钟)

本部分包括表达与理解两方面的内容。请根据题目要求, 在四个选项中选出一个最恰当的答案。

请开始答题:

21. 无论苹果公司下架 360 的真正原因到底是什么, 这次在苹果严打刷排行作弊的特殊时期, 360 撞枪口是\_\_\_\_\_。即使 360 的解释\_\_\_\_\_, 但操纵市场排名——这个中国互联网潜规则再次被揭露, 无底线竞争也因此重新被推上讨伐的桌面。

填入画横线部分最恰当的一项是 ( )。

- A. 哑口无言 百无一失  
B. 百口莫辩 百无一漏  
C. 张口结舌 百无一失  
D. 理屈词穷 百无一二

22. 茶委实为高雅清幽之物, 但绝非\_\_\_\_\_之品, 茶与茶道相互包容, 茶与茶道融为一体, 茶道何其宽容、何其宽广? 茶亦何其宽容、何其宽广?

填入画横线部分最恰当的一项是 ( )。

- A. 曲高和寡  
B. 孤芳自赏  
C. 顾影自怜  
D. 阳春白雪

23. 作为一种典型的从众行为, 网民的群体围观具有易\_\_\_\_\_、情绪化的特点, 能产生一传十、十传百的“爆炸式”传播效应。可以说, 网友的目光聚焦, 网友的集体\_\_\_\_\_, 形成了影响不小的“民间意见舆论场”, 改变了舆论的格局和生态。

填入画横线部分最恰当的一项是 ( )。

- A. 传染 表达  
B. 传播 言论  
C. 感染 表现  
D. 传达 发言

24. 与西方人相比, 中国人反而对景泰蓝的认识偏低。我们承认它的\_\_\_\_\_, 但不认为它在审美上有多高。这种认识源于文人, 文人认为景泰蓝太\_\_\_\_\_了, 不含蓄, 所以对其评价一直不高。

填入画横线部分最恰当的一项是 ( )。

- A. 价值 低俗  
B. 高雅 张扬  
C. 名贵 俗气  
D. 贵重 花哨





A.百战百胜 深渊

B.百战不殆 云雾

C.百战不挠 沼泽

D.百折不回 浅洼

31. 校车安全问题已经到了\_\_\_\_\_，不能不解决的地步。然而，一些政府部门为了防患未然，将校车一禁了之，实在是\_\_\_\_\_之举。

填入画横线部分最恰当的一项是（ ）。

A.迫不及待 揠苗助长

B.千钧一发 剖腹藏珠

C.急如星火 因噎废食

D.刻不容缓 知难而退

32. 政府连续出台房地产调控政策，房地产市场正趋于理性、正常，而某些专家教授依然昧着良心为贪婪的开发商摇旗呐喊、混淆视听，\_\_\_\_\_。但政府的调控目标清楚、调控政策既定，他们危言耸听、\_\_\_\_\_的忽悠想影响政府的既定方针，如同\_\_\_\_\_。

填入画横线部分最恰当的一项是（ ）。

A.令人发指 天花乱坠 螳臂当车

B.令人不耻 漫无边际 泰山压卵

C.令人不齿 大放厥词 蚍蜉撼树

D.令人不屑 大言不惭 自不量力

33. 写作的重点在史不在论，中的议论部分，或宏观或微观，都是随感而发，或深或浅，不成体系，没有模式，纯属一己之见、一孔之见，\_\_\_\_\_。

填入画横线部分最恰当的一项是（ ）。

A.不足为凭

B.不足为训

C.不刊之论

D.不易之论

34. 大力发展新兴产业，需要形成规模效应，但短期内突然泛滥的潮流中，有多少是泡沫，应该警惕。表面看起来产业发展\_\_\_\_\_，却没有多少人真正耐得住寂寞，这样不仅无助于新兴产业的\_\_\_\_\_，也违背了国家政策推动的本意。

填入画横线部分最恰当的一项是（ ）。

A.如火如荼 孕育

B.虚假繁荣 成长

C.方兴未艾 发展

D.轰轰烈烈 产生

35. 元政府当时对手工业工匠的态度跟宋政府有很大区别。我们对这段比较残酷的历史都有所了解，元朝当时是\_\_\_\_\_般地席卷整个国土。建立政权以后，政府对手工业兴趣\_\_\_\_\_，需要许多手工业工人为其服务，所以大批俘虏有本事的工匠。

填入画横线部分最恰当的一项是（ ）。

A.风卷残云 浓厚

B.弹指之间 深厚

C.横扫千军 索然

D.电光石火 强烈

36. 通常，一个民主开放的市场环境内，一定是个性化需求的市场，人们\_\_\_\_\_地满足自己的喜好；相反，一个政治环境\_\_\_\_\_的国度，人们除了满足自己的基本需求外，更多的是在意周围人的看法。

填入画横线部分最恰当的一项是（ ）。

- A.无所顾忌 压抑  
B.无所忌惮 抑郁  
C.无所用心 沉闷  
D.无所畏惧 闭塞

37. 聂卫平是中国围棋界影响力最大的泰斗人物，棋风华丽、\_\_\_\_\_、大气。生活中的聂卫平以率真、敢言闻名，也因口无遮拦被戏称为“聂大嘴”。即便被视为不知韬晦，如今已59岁的聂棋圣似乎仍然不会改变他那\_\_\_\_\_的处世风格。

填入画横线部分最恰当的一项是（ ）。

- A.灵活 依然固我  
B.磅礴 刚愎自用  
C.流畅 自以为是  
D.猛烈 我行我素

38. 我们见到一些老师\_\_\_\_\_，经常指责他的学生不该如何如何。那是这个老师没有到境界，真正好的老师会像孔夫子这样，\_\_\_\_\_地跟学生商量着把这种天地人三才共荣共生的关系讲透。

填入画横线部分最恰当的一项是（ ）。

- A.声色俱厉 平和  
B.宽严相济 和蔼  
C.心平气和 严厉  
D.心浮气躁 慈祥

39. 在今天这样一个\_\_\_\_\_的“快餐文化”环境中，很多音乐制作人也把流行音乐当作了自由市场，妥协是音乐人的生存技巧。而崔健依然\_\_\_\_\_于滚滚红尘中，时刻警惕着商业大潮的诱惑和吞没，时刻铭记和倡导着“介入现实、批判现实”的摇滚精神。

填入画横线部分最恰当的一项是（ ）。

- A.日新月异 洁身自好  
B.苍黄翻覆 不落窠臼  
C.朝令夕改 独善其身  
D.朝生暮逝 特立独行

40. 归根到底，凡物有其本名，有一定的含义，人们都很熟悉了，就不要\_\_\_\_\_，杜撰新名。所以鸽子也不需要那许多\_\_\_\_\_的名称，鸽子就叫做鸽子好了。谁要是高兴给自己心爱的小鸽子起一个小名儿，作为一种爱称，当然可以自由。但是请务必注意，不要用小名儿代替了鸽子的通称，以免使人莫名其妙，造成混乱。

填入画横线部分最恰当的一项是（ ）。

- A.另起炉灶 奇谈怪论  
B.独出心裁 离奇古怪  
C.独树一帜 莫名其妙  
D.标新立异 稀奇古怪

41. 美国普林斯顿大学的一个研究小组认为，跑步虽健脑但不能独自进行。单独跑步者在途中往往会产生孤独感。这种孤独感对身体没有什么好处。由此，他们强调指出，人做体育活动，尤其是跑步，最好是几个人结伴进行。德国乌尔马大学研究人员的最新研究称，跑步不仅能保护人体内现有细胞，而且还能促进其新细胞的生长，从而使人们的记忆力得到改善。单独跑步与结



伴跑步对大脑的影响完全不同：前者能提高皮质醇的水平，妨碍脑细胞生长；后者反倒能改善脑组织的空间定位，增强脑细胞之间的联系，从而催生新的脑细胞。

下列说法与原文相符的是（ ）。

- A.单独跑步不如结伴跑步有益身心
- B.结伴跑步能提高皮质醇的水平
- C.经常跑步会产生孤独感
- D.坚持跑步具有健脑的功效

42. 我国于 1955 年开始出现“三好学生”概念，“三好”制度以固定的评选比例、基本相同的衡量标准，在中国所有大、中、小学校普遍推行，深深影响了无数青少年。然而，这种荣誉也在其评选过程中受到了质疑。教育专家顾明远认为：评选“三好学生”会过早给孩子贴上好学生与坏学生的标签，并在 2000 年提出了叫停“三好”的观点；2004 年他在上海一个教育论坛上再次提出：教育应该是公平的，每个孩子都得有被认可被关注被尊重的机会。在成长过程中，孩子的表现是有起伏的，如果过早地给他一些‘你不如别人’的心理暗示，会给他们带来精神压力。要给孩子创造自由发展的环境，才能够培养创造型的人才。

这段文字意在说明（ ）。

- A.“三好学生”制度的历史悠久
- B.“三好学生”称号是“好”学生的体现
- C.“三好学生”制度发展过程中带来了负面影响
- D.“三好学生”荣誉制度目前并不完善

43. 将以下 6 个句子重新排列，语序正确的是（ ）。

- ①活着的事，大抵在两个方面：务实与务虚
- ②但若爱情没了，万贯家财很可能只是内战的火药捻
- ③便是笃爱如牛郎织女者，也是“你耕田来我织布”地需要务实
- ④爱情，即务虚的一面
- ⑤两者这种缺其一，便可算得残疾
- ⑥一个家，家徒四壁势必难以为继

A.①⑤③⑥④②

B.①⑤⑥③②④

C.⑥③②④①⑤

D.⑥③①⑤④②

44. 诵读启蒙国学，可以为孩子打下良好的语言和文字基础。启蒙读物虽然文字不是很多，但内容很丰富，包括了天文、地理、历史、修身、伦理等各个方面的知识。幼儿的大脑理解力还不发达，但对于新知识的记忆力很强大，所以这些启蒙读物一旦记住了，随着后面理解力的发展，这些浓缩的词汇就会融会贯通。当孩子记住这些启蒙的文章，在成长过程中一旦与这些文章发

生共鸣，其语言和文字能力会有突飞猛进的飞跃。因此，家长在让孩子学习启蒙国学时，可对幼儿加强记忆方面的要求，孩子不问就不要强求其理解，否则只会无形中制约孩子的发展。这段文字意在说明（ ）。

- A.对知识的是记忆是对知识理解的基础
- B.幼儿时期诵读启蒙国学有助孩子的语言发展
- C.对孩子的启蒙教育需结合其自身发展水平
- D.启蒙读物是最佳的幼儿教育材料

45. 近年来，国人出境购物超过 50 万的例子越来越多，而购买 LV 等名牌奢侈品更是中国游客的最爱。最新的权威报告显示，中国公民出境旅游持续高速增长，与此同时，我国出入境旅游失衡的问题也开始凸显。中国旅游研究院最近发布的报告说，今年前三季度，出境旅游人数 5100 万人次，同比增长超过 20%。与之对应的是，前三季度入境旅游增长低于预期，入境过夜旅游人数 4200 万人次，同比增长 1%。2011 年上半年出境旅游花费 331 亿美元，旅游服务贸易逆差达 107 亿美元，预计全年逆差可能突破 200 亿美元。我国已经出现旅游贸易逆差持续扩大、出入境旅游市场失衡的趋势。

根据这段文字，以下说法正确的是（ ）。

- A.我国旅游贸易逆差扩大、出入境旅游市场失衡问题凸显
  - B.近年来国内外游客均偏爱出境旅游，中国公民表现较强
  - C.出境购买奢侈品成为出境旅游的主要目的
  - D.我国的旅游行业一直存在出入境旅游失衡问题
46. 在欧美国家消费购物其实是符合理性的决定，而不一定是盲目的疯狂心态驱使。因为大部分国际知名品牌原产地都在欧美，到原产地购买，无疑产品质量更正宗，价格相对于在国内购买来说更为便宜实惠。再加之当前出境退税和入境免税等政策，知名品牌产品在价格上的优势更为明显。而且原产地优势除了价格和质量外，还有其提供的精神附加值。国外的一些品牌注入了当地的文化内涵，认同这个品牌理念的推崇者会更想要在原产地购买，以获得纪念意义。

这段文字意在（ ）。

- A.分析出境旅游购买知名品牌产品的合理原因
  - B.严厉反驳出境消费是盲目疯狂心态驱使的观点
  - C.鼓励游客出境旅游时多购买当地产品
  - D.强调产品需同时具有价格、质量、意义三方面的优势
47. 在铁路系统内单设公安、检察和法院机构这一现象的原因错综复杂，早在计划经济年代，铁路公安机构就已独立存在。上世纪 80 年代初期，为配合全国性“严打”战役，整个铁路系统迅速组建起属于自己的三级检察院和法院，负责审理涉“铁”案件，形成了相对独立、封闭的司法机构体系。铁路系统长期政企合一，各铁路局及其以前所属的分局，早已成了企业性质。



铁路系统的公安局、检察院和法院，实际上成为在国有企业管辖下，又行使着国家治安、司法权力的机构，它们的人事、财政和物资装备等全然受着铁路企业管控和调度，是国家司法体系之外的“独立王国”。

这段文字主要谈论了（ ）。

- A.国家司法体系存在不足之处
- B.铁路系统的司法问题需自身处理
- C.铁路系统独立司法体系形成的原因
- D.铁路系统存在特殊的司法独立现象

48. 压岁钱的去向基本上可以分为三类，一是交由孩子自己使用，二是通过理财让钱生钱，三是作为爱心善款回馈社会。如果是让孩子自己支配，则很有必要考察一下他们花钱是不是有计划性，是不是想要什么玩具就买什么玩具，想吃什么零食就买什么。教育孩子合理地使用压岁钱，会对他们提高自制力有很大的帮助。如果有孩子想拿自己的压岁钱去做投资，也要量力而行，看看这是否是自己力所能及的事情。“高明”的家长完全可以把压岁钱的使用交由孩子自己来掌控，但也应当叮嘱孩子定期公布压岁钱的出纳情况，并对其“账户”做必要的监督。

这段文字意在说明（ ）。

- A.压岁钱应交给孩子自己管理
- B.父母应该利用压岁钱教育孩子如何理财
- C.交由孩子的压岁钱应由父母监督使用
- D.压岁钱是否交给孩子弊大于利

49. 人类进步史已雄辩地证明：科学技术是人类进步和社会发展的巨大历史动力，而科学普及作为科学技术通向人类社会的桥梁，则是人类历史永恒的主题。从科学社会学的角度看，科学普及是一种广泛的社会现象，必然有其自身的“增长点”。科学普及的生长点就在自然与人、科学与社会的交叉点上。也就是说，自然科学与人类社会的相互作用生成了科学普及，科技与社会又作为科学普及的“土壤”，哺育着它的生长。而科技进步和社会发展，则为科学普及不断提供新的生长点，使科普工作具有鲜活的生命力和浓厚的社会性、时代性。

这段文字主要介绍了（ ）。

- A.科学普及是自然增长的社会现象
- B.科学普及工作有其自身的特点
- C.科学普及工作具有重要的意义
- D.科学普及的发展依靠科学、社会等共同作用

50. 英谚有云：“世上没有不长杂草的花园。”金无足赤，人无完人，对他人的包容，正是建立在对他人的体谅和理解之上。蔣相如对廉颇的包容，成就了“将相和”的佳话；鲍叔牙对管仲的包容，成就了“九合诸侯，一匡天下”的壮举；李世民对魏征的包容，成就了“贞观之治”的盛世；而宋朝君主对士子学人的包容，则迎来了继战国之后中国历史上第二次思想解放、文化

繁荣的高潮。包容的意义，绝不仅仅停留在个人层面，它对整个社会的存在和发展，同样有着巨大的能动作用。

这段文字意在说明（ ）。

- A.中华民族具有宽容待人的传统美德
- B.对人包容在个人和社会层面都有重要意义
- C.自古到今我国宽容待人的事例不胜枚举
- D.世上不可能有完美的人

51. 从蜂王浆的成分看，它对人体不太可能有什么神奇的作用。蜂王浆大部分是水，所以和含水量很少的蜂蜜不同，蜂王浆很容易腐败，在没有冰箱的年代没法保存，传统上也就不采它。蜂王浆和蜂蜜的另一区别是，蜂蜜的成分主要是糖，而蜂王浆的蛋白质、脂肪酸含量比较高，糖的含量则比较低，此外还有一些矿物质、维生素。这些物质当然有一定的营养价值，但是它们都可以从其他食品更便宜、更大量地得到，没有必要通过吃蜂王浆来补充。而且，蜂王浆能引起过敏反应，会出现荨麻疹、哮喘，严重的还会致命。

这段文字意在说明（ ）。

- A.蜂王浆不具有同其他物质一样的食用价值
- B.蜂王浆需要正确的食用方法
- C.蜂王浆与蜂蜜有很多区别
- D.蜂王浆并不具备特殊的营养价值

52. 咳嗽本身不是病，而是人体为了保障呼吸道畅通的一种自我保护。频繁、严重的咳嗽则是某种疾病的症状。既然咳嗽是人体保护反射，止咳就反而有可能危害健康，特别是肺病患者更是如此，分泌物积蓄在肺部不咳出来并非好事。如果咳嗽过于严重而需要治疗，也应该是针对引起咳嗽的病因，根除咳嗽的因素（例如抗菌、消炎、戒烟），而不是简单地强制止咳。单纯止咳药包括天然的麻醉品，通过作用于大脑中的咳嗽中枢、暂时抑制住咳嗽反射而发挥作用，还可能使人成瘾。所以，一般是不提倡止咳，对各种止咳药也都应该慎用，尤其是儿童。

这段文字意在说明（ ）。

- A.咳嗽对人体有着重要意义
- B.为保护儿童大脑应该停用止咳药
- C.治咳嗽应该治疾病的根本而非药物止咳
- D.咳嗽是人体疾病的提示手段

53. 飞机上禁止使用手机，是美国联邦通讯委员会（FCC）在1991年实施的一项规定，理由是手机发射的无线电波，可能会干扰地空通讯。这个规定被公众广泛接受，也一直执行得很好，但在民航业内部，对此却始终存在大量的争议。美国波音公司，以及探索频道等多方部门，通过各种手段，做了大量实验来研究可能的影响。但是，直到现在，他们也没有找到证据，证明手



机能够对地空通讯产生任何值得一提的影响。当然，他们也不能证明手机对地空通讯不会产生影响，因此，\_\_\_\_\_。

填入画横线部分最恰当的一句是（ ）。

- A.飞机上禁止使用手机其实是一项很不必要的规定。
- B.即使在飞机上使用手机，也不会产生任何不良的影响。
- C.需要更多的研究来探讨手机对地空通讯的影响。
- D.尽管 FCC 屡次摇摆不定，还是维持了原议。

54. 现在人们开始用“体商”测量人的体能。体商的测定它需要测量的项目内容：力量、速度、耐力、速度耐力、平衡能力、定向能力、柔韧性、协调性、灵活性、适应性，适应性又含颠簸、高山、时差、水土和睡眠适应等。习惯上衡量一个人体力是用年龄来衡量的，但年龄作为一个人的体力标准是有一定局限性，随着人们生活水平提高、保健意识的加强，在现在社会中，70岁的人体力胜过50岁的人并非个别现象。因此体商作为年龄标准的补充有着重要意义，它可以更好地作为了解人体体力变化的标准。

这段文字意在说明（ ）。

- A.了解人体体力变化应该综合体商和年龄两个方面
- B.体商将代替年龄作为了解人体体力变化的重要标准
- C.体商本身就可以作为测量人体能的独立标准
- D.依靠年龄判断人体体力是不准确的方法

55. 长时间跑步，或者长跑，跟其他任何运动一样，都需要练习、耐心和毅力。需要做出足够的奉献，有决心突破极限。很多人都习惯坚持同一种跑法，这很常见。但是，根据美国运动医学学会注册教练的观点，固守陈规会影响进步。日复一日跑同一条路，也可能限制运动效果。专家建议跑山路以增加挑战性，因为上路能测试你的脚踝到膝盖再到髋关节的稳定性，道路的不平整会迫使你成为更强壮的跑步者。每周跑两次山路，可以使你在成为强壮的山路跑手后，在平地跑得更快。肌肉通过上下山坡的锻炼后，平路简直就是“小儿科。”

这段文字意在说明（ ）。

- A.跑步不仅可以锻炼身体还能够增长心智
- B.任何事情都不能固守陈规，需要创新
- C.跑步的目的在于锻炼数量和种类更多的肌肉
- D.在不同类型的路面跑步更能够强身健体

56. 长假期间玩乐过度，走亲访友日程繁忙，难免打乱人体正常的生物钟，常会出现失眠症状，有的则嗜睡，整天头昏脑胀。新的睡眠规律在4-6天内就会形成，如果一个人在长假期间经常晚睡晚起，形成的睡眠习惯到节后已不能和正常的作息时间相适应。因此，在假期的最后一两天，要参考节后的作息时间进行调整。重新恢复有规律的饮食和正常的生活节奏，有助于消化

功能改善，缓解长假综合征影响，但是调整时间因人而异，有的人一两天就能恢复，有的则需数天。心理学研究表明，一个人越是释放得厉害，日后越是难以调整过来。

下列说法与原文相符的是（ ）。

- A.人体已经形成的生物钟很难被改变
- B.生物钟的调整需要一定的时间
- C.规律饮食和规律生活即可迅速恢复身体机能
- D.人体机能能在彻底放松后更容易迅速恢复

57. 水分是花卉生存和繁衍的必要条件，合理浇水是养花成功的关键，花卉的种类、环境及气候的不同，需水情况有很大差异。家庭养花，尤其是客厅中室内花卉，由于没有阳光直射，花卉蒸腾作用较弱，不能浇水过勤，否则，土壤经常处于渍水状态，根系会室室而死，浇水过多过勤是许多家庭养花不成功的重要原因。一般而言，置阳台的花卉多浇，室内的花卉少浇；气温炎热时多浇，气温凉爽时少浇，草本多浇，木本少浇，并按照干湿交替进行，即在土壤相对较干时才浇水，每次浇水要浇至盆底有水渗出为止。

这段文字主要介绍了（ ）。

- A.室内养花不成功的主要原因
- B.对花卉合理浇水的具体种类
- C.花卉养殖应根据具体情况合理浇水
- D.浇水过勤对花卉有不良的影响

58. 咆哮式教育，是指父母在教育子女是采取的一种大声呵斥式的教育方式。在人们周围，经常能看见咆哮的父母：孩子不做作业，父母严令“快回房间”；孩子不愿意上补习班，家长便说“这事由不得你做主”。有的家长即使表面不咆哮，内心也是采用咆哮的高压手段，对孩子提出诸多要求。很多人会认为，咆哮式的教育方式可以逼出成功的孩子，毕竟孩子天性爱玩，需要父母的强制和逼迫给他们立规矩。其实，这种方式可以一时震住孩子，却决不是长久之计。孩子面对咆哮式教育暂时会畏惧听话，但内心却产生一种反抗心理，不利于以后的成长。

这段文字意在强调（ ）。

- A.咆哮式教育普遍存在于我们周围
- B.咆哮式教育能够以起震慑和规范孩子行为的作用
- C.咆哮式教育并不适用于所有类型的孩子
- D.咆哮式教育容易对孩子造成不良影响

59. 由于缺乏清晰的行业管理标准，游客很难知晓旅行社是如何操作团队的，因而很难保障自己的正当权益，而旅行社作为经营方也更容易逃避责任。以北京接待线路为例，据北京某旅行社工作人员透露，即使是报价相同、接待标准相同的线路也会有区别。酒店方面，同是五星级酒店，在王府井和在通州的酒店成本价就不一样。旅游巴士方面，车况不一样，游客的舒适度就



不一样，成本当然也不一样，这些在旅游合同里都是看不出来的。业内人士指出，虽然标准化建设对旅行社的短期盈利帮助不大，但其有助于旅行社扩大规模和实现可持续发展。

这段文字意在说明（ ）。

- A.旅行社惯用行业管理漏洞欺骗游客
- B.社会亟需出台明晰的行业管理标准
- C.旅行社标准化建设才是持续发展的保障
- D.游客需明确辨析旅行社的欺诈行为

60. 德国的布莱希特说过：“不管我们踩着什么样的高跷，没有自己的脚是不行的。”也许你有富裕的家境，也许你有身在仕途的父母，也许你有父母已为你铺就的人生坦途，这些用金钱、地位和宠爱做成的“高跷”会使你在人生之路上昂然阔步且四平八稳，可一旦“高跷”倒了，你便会重重地摔倒在地，除了落得个鼻青脸肿外，一无所有。要知道，只依赖别人，你就不会用自己的双手摘来的浆果，更不会有用自己的头脑设计的未来，也就不可能拥用自己的双脚走出的人生之路。

这段文字意在说明（ ）。

- A.踩高跷需要健康的身体为基础
- B.拥有一个良好的出身能够使人优于他人
- C.任何出身都应具有自给自足的能力
- D.依靠别人只会落得一无所有

※※※ 第二部分结束，请继续做第三部分！ ※※※

### 第三部分 数量关系

(共 15 题, 参考时限 20 分钟)

在这部分试题中, 每道题呈现一段表述数字关系的文字, 要求你迅速准确的计算出答案。

请开始答题:

61. 甲、乙两个部门各有 6 名职员, 且都是男女各半。现在从两个部门中选出 5 人参加会议, 要求男女职员都有且女职员的比重不得低于一半, 且每个科室至少选 1 人。问有多少种不同的选法? ( )

A.378

B.384

C.390

D.396

62. 甲、乙两地相距 12 千米, 小明徒步从甲地到乙地, 行走速度为每小时 8 千米, 每走两公里需要休息 5 分钟。问小明从甲地到乙地一共需要多长时间? ( )

A.155 分钟

B.180 分钟

C.205 分钟

D.210 分钟

63. 有标号分别为 1、2、3、4、5 的五个小球, 另有同样标号的五个纸盒。将五个小球任意放入五个盒子中, 每个盒子只放一个小球。问至少两个小球与所在纸盒标号相同的概率是多少?

( )

A.  $\frac{7}{40}$

B.  $\frac{11}{60}$

C.  $\frac{31}{120}$

D.  $\frac{4}{15}$

64. 某考试卷中有若干选择题, 每答对一题加 2 分, 答错或不答一题扣 1 分, 一考生答对的选择题数量是答错或不答的 5 倍, 选择题共得到 45 分。问试卷中有多少道选择题? ( )

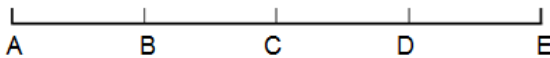
A.50

B.30

C.25

D.20

65. A、B、C、D、E 五个仓库位于一条笔直的公路上, 如下图所示, 且  $AB=BC=CD=DE=1.5$  公里。已知 A 仓库存放 10 吨货物, B 仓库存放 20 吨货物, C 仓库存放 30 吨货物, E 仓库存放 50 吨货物, D 仓库没有存放货物。现在需要把所有的货物集中存放在一个仓库里, 如果每吨货物每公里的运费为 2 元钱, 那么最少需要多少元运费? ( )





A.420

B.450

C.480

D.570

66. 一件工作，小王单独做需 10 天完成，小赵单独做需要 30 天完成。现在两人一起合作，其间小王有事请了 2 天假由小赵单独做，小赵也请了几天假由小王单独做，从开始到完成总共用了 11 天，问小赵请了几天假？（ ）

A.4

B.6

C.8

D.10

67. 甲、乙在一条长 400 米的环形跑道上锻炼，甲每分钟跑 260 米，乙每分钟跑 210 米，如果两人同时从同一地点向同一方向出发，经过多少分钟两人第三次相遇？（ ）

A.16

B.20

C.24

D.28

68. 一副扑克牌有 54 张，最上面的一张是红桃 K。如果每次把最上面的 4 张移到最下面而不改变它们的顺序和朝向，那么至少移动多少次移动，红桃 K 会再次出现在最上面？（ ）

A.27

B.26

C.25

D.24

69. 某学校组织体操表演，学生排成若干层的中空方阵，最外层共有 40 人，最内层共有 16 人，则该方阵学生的总人数是多少？（ ）

A.150

B.132

C.125

D.112

70. 将分别写有 1、2、3、4、5、6、7、8、9、10 的十张卡片分发给 A、B、C、D、E 五人，每人两张。已知拿到的两张卡片上的数字之和为：A12，B4，C8，D15，E16。问 A 拿到的是哪两张卡片？（ ）

A.2 和 10

B.3 和 9

C.4 和 8

D.5 和 7

71. 商品甲的进价比商品乙低 10%，甲的利润比乙的利润高 20%。已知甲、乙两商品的售价相同，问乙的利润率是多少？（ ）

A.60%

B.50%

C.40%

D.30%

72. 甲、乙两车同时从 A、B 两地出发，相向而行。甲到达 B 地后立即返回，回到 A 地后又立即向 B 地行驶；乙到达 A 地后立即返回，回到 B 地后又立即向 A 地行驶。两车如此往复，行驶速度不变。若两车第 2 次迎面相遇距 B 地 20 千米，第 3 次迎面相遇距离 A 地 10 千米，问 A、B 两地的距离是多少千米？（ ）

A.20

B.30

C.40

D.70

73. 某外企有 25 名职员，其中 18 人会英语，12 人会日语，10 人会法语。有 8 个人既会说英语又会说日语，有 6 个人既会说英语又会说法语，有 5 个人既会说日语又会说法语。已知三种语言都会说的比三种语言都不会说的多 1 人，问有几名职员会说三种语言？（ ）

- A.1  
B.2  
C.3  
D.4

74. 某公司有 7 个部门，每个部门的人数相等。已知部门一的男性员工的人数比部门二、部门三两个部门的女性员工总数少 2 人；部门四、部门五两个部门的女性员工总数比部门六、部门七两个部门的男性员工总数少 2 人。则该公司的男性员工人数与女性员工人数比是多少？（ ）

- A.4:3  
B.3:4  
C.3:2  
D.2:3

75. 某单位食堂买了同样多个数目的苹果、橘子和荔枝。晚餐时厨师给每个前来就餐的员工发放 2 个苹果，3 个橘子和 5 个荔枝。发放完后厨师清点了一下，发现橘子还剩 35 个，而苹果的数目恰好是荔枝的 10 倍。那么晚餐时总共有多少员工前来就餐？（ ）

- A.10  
B.12  
C.15  
D.17

※※※ 第三部分结束，请继续做第四部分！ ※※※



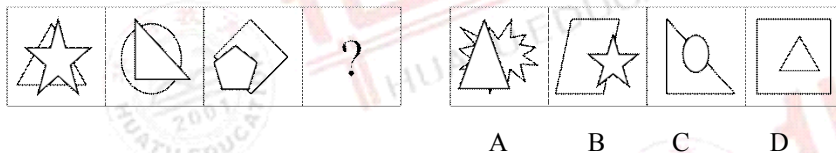
## 第四部分 判断推理

(共 35 题, 参考时限 35 分钟)

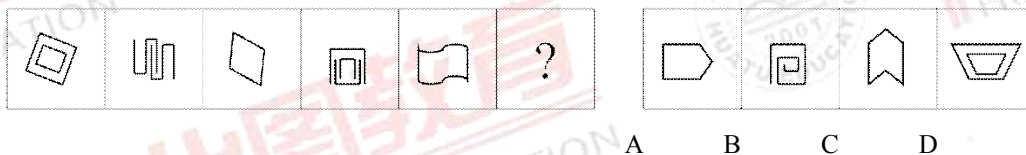
一、图形推理。请按每道题的答题要求作答。

请开始答题:


76. 请从所给的四个选项中, 选择最合适的一个填入问号处, 使之呈现一定的规律性:



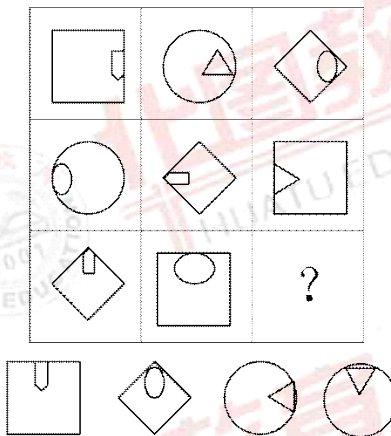
77. 从所给的四个选项中, 选择最合适的一个填入问号处, 使之呈现一定的规律性:



78. 请从所给的四个选项中, 选择最合适的一个填入问号处, 使之呈现一定的规律性:

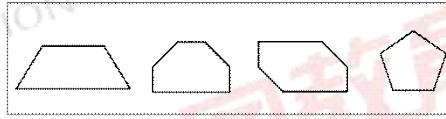
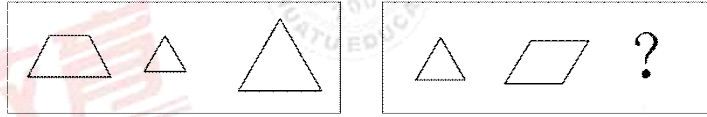


79. 请从所给的四个选项中, 选择最合适的一个填入问号处, 使之呈现一定的规律性:



A B C D

80. 请从所给的四个选项中, 选择最合适的一个填入问号处, 使之呈现一定的规律性:

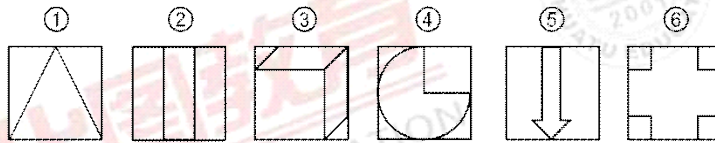


A B C D

以下 81-85 题, 每个题目包含六个图形, 请把此六个图形分为两类, 使得每一类图形都有各自的共同特征或规律。

81. 把下面的六个图形分为两类, 使每一类图形都有各自的共同特征或规律, 分类正确的一项是

( )。



A. ①②⑥, ③④⑤

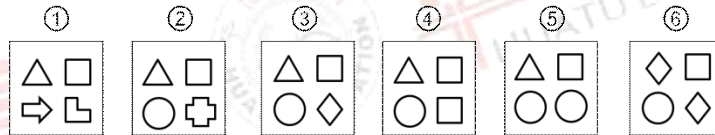
B. ①③⑥, ②④⑤

C. ①③⑤, ②④⑥

D. ①②⑤, ③④⑥

82. 把下面的六个图形分为两类, 使每一类图形都有各自的共同特征或规律, 分类正确的一项是

( )。



A. ①②③, ⑥④⑤

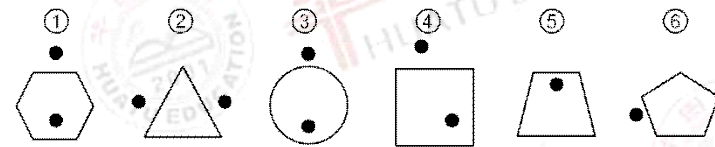
B. ①③⑥, ②④⑤

C. ①④⑤, ②③⑥

D. ①②⑥, ③④⑤

83. 把下面的六个图形分为两类, 使每一类图形都有各自的共同特征或规律, 分类正确的一项是

( )。



A. ①②⑥, ③④⑤

B. ①②⑤, ③④⑥

C. ①③⑤, ②④⑥

D. ①④⑤, ②③⑥

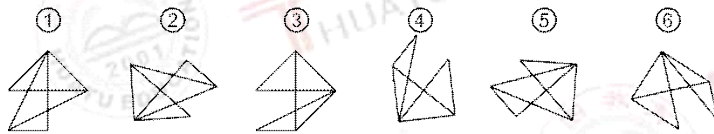


84. 把下面的六个图形分为两类，使每一类图形都有各自的共同特征或规律，分类正确的一项是（ ）。



- A. ①②⑥, ③④⑤  
 B. ①④⑤, ②③⑥  
 C. ①②④, ③⑤⑥  
 D. ①③④, ②⑤⑥

85. 把下面的六个图形分为两类，使每一类图形都有各自的共同特征或规律，分类正确的一项是（ ）。



- A. ①③⑥, ②④⑤  
 B. ①②⑤, ③④⑥  
 C. ①③⑤, ②④⑥  
 D. ①②④, ③⑤⑥

二、定义判断。每道题先给出一个定义，然后列出四种情况，要求你严格依据定义，从四个备选项中选出一个最符合或最不符合该定义的答案。注意：假设这个定义是正确的，不容置疑的。

请开始答题：

86. 信访代理制就是基层党政机关、职能部门在群众信访问题上变“群众上访”为信访“代理员代理上访”，积极疏导群众的信访活动，降低信访成本，解决群众不会访、无序访和走弯路的问题而进行尝试中的一种制度。

根据上述定义，以下是信访代理制的体现的是（ ）。

- A. 老干部李某因行动不便，通过书信就生活待遇问题和其他老干部一同进行了联名上访  
 B. 某社区居民因一户一表集体到街道办事处讨要说法，街道办事处与电业局积极沟通，退回欠款  
 C. 某民政部门工作人员以取消低保为威胁，强迫上访者签下保证书，保证不再向上级部门上访  
 D. 王某因楼院改造家中房子遭到破坏，聘请律师将政府相关部门告上法庭，要求相关部门给予赔偿

87. 商品差价是产品与商品之间的价值量的差别，是马克思主义哲学的发展。同一商品在不同地区、不同季节、不同流转环节或因不同质量而形成的价格差别。有地区差价、季节差价、购销差价、批零差价、质量差价等。差价的形成主要是因生产和流通的成本不同。

根据上述定义，以下属于商品差价的是（ ）。

- A. IPAD2 上架后, IPAD1 价格直降 300 元
- B. 移动动感地带品牌包 100 条短信 5 元, 包 300 条短信 10 元
- C. 反季节水果草莓卖 10 元一斤, 当季水果桔子卖 5 元一斤
- D. 同样款式的手提包, A 货的价格要比行货便宜的多

88. 领导者嫉妒心理是指领导者害怕他人胜过自己, 将别人的优越之处视为对自己的最大威胁, 因而就感到害怕和愤怒, 于是就借助于不正当的攻击他人的手段来摆脱心中的恐惧和愤恨对自己的困扰, 以求得心理上的安慰。

根据上述定义, 以下属于领导者嫉妒心理的是 ( )。

- A. 公司经理张某与下属王某原本是一对恋人, 分手后张某为了报复, 在工作中处处为难王某, 导致王某迟迟不能晋升
- B. 营销 A 组的组长为了追赶上营销冠军组 B 组的业绩, 积极带领组员研究营销策略, 寻找新的客户群, 业绩有了大幅提升
- C. 某大型超市经理恶意向媒体举报另一大型超市的商品存在质量问题, 使得另一超市的名誉受损, 销售额降低
- D. 赵老师为了和孙老师竞争教授职称, 匿名向上级部门反映孙老师所发表的论文是剽窃国外研究成果

89. 所谓教育式营销模式就是通过传播新的消费理念、新的生活方式等观念与思想, 从而教育与引导消费者和潜在消费者, 使消费者和潜在消费者接受新的消费理念与生活方式, 改变原有的思维习惯、消费习俗、生活方式, 使营销水平更上一个新的层次的营销模式。

根据上述定义, 以下不属于教育营销的是 ( )。

- A. 某化妆品公司在各大美容院开设美容课程, 鼓励女性积极塑造自我形象
- B. 某健身俱乐部组织会员以“我的生活因运动而改变”为主题进行经验交流
- C. 某中学请优秀归国留学生做报告, 鼓励更多学生走出国门接受更为多元化的教育
- D. 某保险公司对新员工进行投资理财培训, 使员工能够更好的为客户传播投资理念

90. 所谓“科技反腐”, 就是综合运用现代高科技手段和科学管理观念, 将以信息技术、通信技术和网络技术为主要内容的科技手段引入反腐倡廉工作中, 把电子监察的科技载体延伸到公共权力运作的全过程。

根据上述定义, 以下哪项不属于科技反腐? ( )

- A. 纪检部门在各级行政服务大厅安装摄像头, 监督工作人员是否按规定为群众办事
- B. 质监部门建立网上审案平台, 利用网络公开办案流程并受理投诉举报
- C. 各个基层党组织建立远程教育站点, 通过网络课程加强党员反腐倡廉教育
- D. 部分政府部门通过开微博进行网络政民互动, 公开重大事项以了解民意



91. 行政调解是国家行政机关处理民事纠纷的一种方法，是对属于国家行政机关职权管辖范围内的行政纠纷，通过耐心的说服教育，使纠纷的双方当事人互相谅解，在平等协商的基础上达成一致协议，从而合理地、彻底地解决纠纷矛盾。

根据上述定义，以下属于行政调解的是（ ）。

- A. 小王因为邻居小李在楼道堆放杂物与其产生矛盾，在居委会工作人员的努力下，小李答应移除杂物
- B. 一对年轻夫妻因生活琐事争吵，一时冲动决定离婚，民政部门工作人员耐心劝说，打消了他们离婚的念头
- C. 张某经法院审判后被判赔偿王某 10 万元，半年后仍未执行，法院前往张某住处劝说张某尽快对王某进行赔偿
- D. 孙某和吴某醉酒后大打出手，两人在派出所中经过商议后决定私了，不进行立案

92. 感觉是事物直接作用于感觉器官时，对事物个别属性的反映，包括视觉、听觉、触觉、嗅觉和味觉。感觉对比是指同一感受器在不同刺激作用下，感受性在强度和性质上发生变化的现象。

根据上述定义，以下属于感觉对比的是（ ）。

- A. 感冒的人比健康的人更怕冷
- B. 打针时肌肉注射比静脉注射更疼
- C. 饥饿的时候看到吃的觉得更饿
- D. 吃苦药后觉得吃糖特别甜

93. 操作性条件反射是指如果一个人做出组织所希望的行为，那么组织就与此相联系提供强化这种行为的因素；如果做出组织所不希望的行为，组织就应该给予惩罚，据此，就让组织成员学习组织所希望的行为并促使组织成员矫正不符合组织要求的行为。

根据上述定义，以下属于操作性条件反射的是（ ）。

- A. 李老师要求刚入学的小学生一听到上课铃必须双手背后坐好
- B. 刚工作的小王犯了错误，上司对她很宽容，没有责备她
- C. 某公司规定凡是全年超额完成业务的，可以获得公费旅游的机会
- D. 请戒毒的人讲述毒品的危害，来告诫人们珍惜生命，远离毒品

94. 维果斯基的“最近发展区理论”，认为学生的发展有两种水平：一种是学生的现有水平，指独立活动时所能达到的解决问题的水平；另一种是学生可能的发展水平，也就是通过教学所获得的潜力。两者之间的差异就是最近发展区。

根据上述定义，以下能够体现最近发展区的是（ ）。

- A. 三岁的丽丽在妈妈的指导下，逐渐学会了自己穿衣服
- B. 小艺的妈妈希望小艺将来能成为一名优秀的科学家
- C. 七岁的小燕实际身高和七岁女孩平均身高之间的差距

D.五岁的小明已经能够背诵 100 首古诗

95. 管理决策是为了实现战略决策而对单位内部管理进行有效的组织、协调,使单位的各项工作正常进行的一种决策。其中包括劳动组织的调整,重要的人事调配,资金的运用,设备的选择,年底生产经营计划的制定、现代管理科学的方法等方面的决策。

根据上述定义,下列不属于管理决策的是( )。

- A. 我国决定与俄罗斯建立战略合作伙伴关系
- B. 某公司决定开发新技术,在三年内推出 4G 版平板电脑
- C. 某机关决定实行轮岗制,对所有科室的科长重新配置
- D. 某公司决定每年多拿出 100 万用于国外投资

三、类比推理。每道题先给出一组相关的词,要求你在四个备选项中找出一组与之在逻辑关系上最为贴近、相似或匹配的词。

请开始答题:

96. 复写纸:复印机

- A.鼠标:平板电脑
- B.存折:提款机
- C.唱片:录音机
- D.指南针:导航仪

97. 降息:拉动内需

- A.运动:体力充沛
- B.低碳:保护环境
- C.战争:达成和解
- D.走运:获得成功

98. 紫外线:臭氧:杀菌

- A.父亲:母亲:家人
- B.绿萝:竹炭:净化
- C.照片:图片:纪念
- D.锻炼:减肥:治病

99. 农药:蝗虫:庄稼

- A.争吵:冷漠:友谊
- B.宏观调控:通货膨胀:内需
- C.医生:病毒:健康
- D.深呼吸:紧张:发挥失常

100. 直立行走对于( )相当于( )对于哺乳动物

- A.爬行:鸟类
- B.道路:洞穴
- C.人类:胎生
- D.水生:两栖

四、逻辑判断。每道题给出一段陈述,这段陈述被假设是正确的,不容置疑的。要求你根据这段陈述,选择一个答案。注意:正确的答案应与所给的陈述相符合,不需要任何附加说明就可以从所给的陈述中直接推出。

请开始答题:



101. 生物体的新陈代谢是一个严正有序的过程，是由一系列酶促化学反应所组成的反应网络。如果代谢过程的有序性被破坏，全部代谢过程就会被打乱，生命就会受到威胁，严重的甚至可导致生命的终结。

由此可以推出（ ）。

- A. 如果生物体的生命没有受到威胁，那么生物体一定维持了代谢过程的有序性
- B. 如果生物体代谢过程的有序性被破坏，那么最终会导致生命的终结
- C. 如果生物体全部代谢过程被打乱，那么一定是因为代谢过程的有序性被破坏了
- D. 如果生命受到威胁，那么由一系列酶促化学反应所组成的反应网络一定遭到了破坏

102. 王华有五件不同颜色的 T 恤，分别是白色、黄色、红色、蓝色、绿色，周一到周五，她将按照一定的顺序分别穿不同颜色的 T 恤，条件是：

- (1) 穿红色 T 恤前不会穿黄色 T 恤；
- (2) 穿蓝色 T 恤第二天一定会穿绿色 T 恤；
- (3) 穿黄色 T 恤后才会穿白色 T 恤。

根据以上条件，王华着装的顺序可以是（ ）。

- A. 红，白，蓝，绿，黄
- B. 黄，红，蓝，绿，白
- C. 红，黄，蓝，白，绿
- D. 红，黄，蓝，绿，白

103. 直到 19 世纪中叶，中国民间信件的传递一直是托人捎带或请人递送。由于传递媒介单一，人们的通信联络极为不便。如今，随着网络、电话等新兴传递媒介的出现，通信联络变得方便了，信息的传递变得通畅，人们也能更加高效的完成日益复杂的工作。。

上文的说法基于以下哪个假设？（ ）

- A. 如果缺乏网络、电话等新兴的传递媒介，那么人们的工作效率会变低
- B. 随着科技的发展，网络、电话等新兴的传递媒介已经融入到人们的日常生活中
- C. 相对于信件等传统传递媒介而言，网络、电话等媒介的传递更具灵活性和时效性
- D. 人们的工作效率会受到信息传递速度的影响，传递速度越快，效率越高

104. “裸婚”是指不买房、不买车、不办婚礼甚至没有婚戒而直接领证结婚的一种简朴的结婚方式，是 2008 年兴起的网络新词汇。热衷于“裸婚”的年轻一代一般年龄在 20 到 35 岁之间，其中“80 后”居多。可以说，“80 后”正值婚恋高峰期，但是现在社会的高压，飞速上涨的房价让他们望房兴叹。

上文得出的结论是基于以下哪个假设？（ ）

- A. “婚礼”在年轻一代的婚姻中被重视的程度日益削弱
- B. 如果能够拥有自己的住所，大多数“80 后”并不会选择“裸婚”

C. “80后”选择“裸婚”更多考虑的是结婚成本的上扬

D. “裸婚”是一种爱的升华，体现了幸福的实质

105. 在英国，不少院校发现很多学生实际能力与考试成绩不符，最后不能顺利毕业，这不但浪费了学生的时间、金钱，也给学校的声誉造成影响。因此有学校开始考虑出台减少部分专业录取人数的政策。但有教育专家分析，通过降低录取人数的并不是能解决学校“易进难出”的问题，造成这种情况的根本原因在于学校课程学分体系与学生管理的问题。

以下哪项如果为真，最能支持专家的观点？（ ）。

A. 这些专业录取的学生都是学校入学考试得分最高的那一部分

B. 即使学校进一步减少录取人数，也不能够提高学生生源质量

C. 许多入学考试成绩优秀的学生在最后反而成了学校的老大难问题

D. 大部分学生按照该专业的毕业学分要求都需要申请延期毕业

106. 据世界《红皮书》统计，20世纪有110个种和亚种的哺乳动物以及139种和亚种的鸟类在地球上消失了。近年来，全世界每天有75个物种灭绝，每小时有3个物种灭绝。由此推算，在未来50年中，地球陆地上四分之一的动物和植物将遭到灭顶之灾。预计，在2050年地球上将有100万个物种灭绝。

以下哪项为真，最能**反驳**以上观点？（ ）

A. 越来越多濒临灭绝的动物和植物得到了有效的保护

B. 人们越来越意识到保持地球的生物多样性是一种可持续发展的平衡状态

C. 许多动植物学家正在积极研究这些濒临灭绝的动植物

D. 人们已经制定了众多法律来禁止人们捕杀珍稀动物和食用珍稀植物

107. “焚书坑儒”是指秦始皇公元前213年和公元前212年焚毁书籍、坑杀术士的事件。秦始皇认为“焚《诗》《书》”“坑术士”，可以净化思想，达到统一思想文化的目的，从而维护自己的统治。

以下哪项为真，最能**削弱**上述判断？（ ）

A. “焚书坑儒”的主要目的是为了消灭儒家思想

B. “焚书坑儒”之后，春秋战国时形成的众多学说仍在民间百家争鸣

C. 秦始皇建立的王朝只持续了15年，便被推翻了

D. 历史上并无“焚书坑儒”一事，纯属后人的杜撰

108. 某烟草公司对96名已婚男性进行了研究，他们分别要求这些男性“连续吸烟二周”“连续吸烟一周”以及“连续吸烟三天”，然后测查在此期间男性对婚姻生活的满意度。结果发现“连续吸烟二周”的男性对婚姻满意度最高。因此，该公司得出结论，吸烟能够提高男性对婚姻生活的满意度。

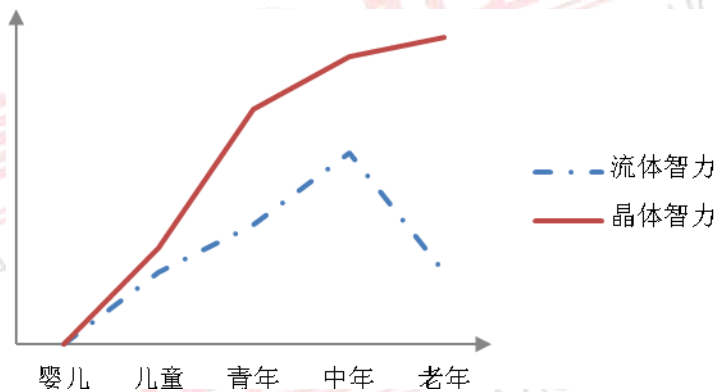
以下哪项为真，最能**削弱**该公司的结论？（ ）



- A.在参加研究的已婚男性中，对大多数是喜欢抽烟的
- B.烟草中含有尼古丁、焦油等有害物质，对身体有害
- C.该烟草公司生产的香烟并不是专门针对已婚男性的
- D.研究者只考察了已婚男性对婚姻生活的满意度，有失偏颇

109. 心理学家卡特尔把智力的构成区分为流体智力和晶体智力两大类。流体智力与知觉、记忆、运算速度等基本心理过程有关的能力。晶体智力主要指学会的技能、语言文字能力、判断力等。下图描述的是流体智力和晶体智力在整个人生中的发展轨迹。

根据这幅图表我们可以推出（ ）。



- A.流体智力将会随着年龄的增长不断下降
  - B.晶体智力是通过掌握社会文化经验而获得的智力
  - C.中年后，流体智力呈缓慢下降的趋势，而晶体智力相对稳定
  - D.流体智力是随神经系统的成熟而提高的，不受教育与文化影响
110. 调查发现，对 12 岁以下的儿童来说，其身高与其智力之间存在正向的相关，即整体而言，儿童身高越高，其智力水平也就越高。那么这是否就说明家长们为了孩子的智力应该努力让其长高呢？有学者仔细分析了儿童身高与智力之间的关系，指出两者间的相关并非因果关系，而是由于年龄这一第三方因素造成共变关系。

如果以下相关均成立，哪一项反映的是与上面类似的共变关系？

- A.冰激凌的销量与犯罪率
- B.总统支持率与上一年政绩
- C.银行利率下降与 GDP 增长迅速
- D.家庭总收入与家庭存款

※※※ 第四部分结束，请继续做第五部分！ ※※※





A.9.1%

B.12.7%

C.16.7%

D.22.9%

115. 根据上述材料，下列说法**正确**的是（ ）。。

- A.去年，深圳市继续以 1320 元领跑全国最低工资标准
- B.人社部表示的 2200 元最低工资预期将是现行标准的 2 倍
- C.今年 2 月深圳市全国最低工资标准同比增长 35.45%
- D.深圳市宝安区已完成 5 年淘汰低端企业计划的 21.67%

二、根据以下资料，回答 116~117 题。

**2011 年居民消费价格比上年涨跌幅度（%）**

指 标	全 国	城 市	农 村
总体居民消费价格	5.9	5.6	6.5
粮食	*	7.2	6.7
肉禽及其制品	21.7	*	20
油脂	*	24.9	25.9
鲜蛋	3.7	*	3.6
鲜菜	*	10.5	11.3
鲜果	*	8.9	9.3
烟酒及用品	2.9	*	2.6
衣 着	-1.5	*	-0.6
家庭设备用品及服务	*	3	2.4
医疗保健及个人用品	*	2.8	3.2
交通和通信	-0.9	*	0.7
娱乐教育文化用品及服务	-0.7	*	-0.1
居 住	5.5	*	8.2

116. 2011 年城市居民消费价格肯定下降的是（ ）。

- ①鲜蛋，②衣着，③交通和通信，④娱乐教育文化用品及服务
- A.只有①②
- B.只有②④
- C.②③④
- D.①②③④

117. 按照城市和农村在总体居民消费价格各自的权重，2011 年城市居民鲜蛋价格（ ）。

- A.降低了 4.5%
- B.降低了 3.8%

C.增加了 3.8%

D.增加了 4.5%

118. 根据表格中已有的数据推断, 2011 年全国居民消费价格上涨不小于 10%的产品或者服务有 ( ) 种。

A.1

B.2

C.3

D.4

119. 根据表格中已有的数据推断, 2011 年城市居民消费价格变化幅度一定比农村要大的产品或服务有 ( ) 种。

A.10

B.8

C.6

D.4

120. 根据上述材料, 下列有关我国城乡消费情况的说法中一定正确的是 ( ) 。

A.2011 年无论农村还是城市, 油脂价格变化幅度最大

B.2011 年城市居民消费价格变化幅度大于 5%的产品或者服务至少有 6 种

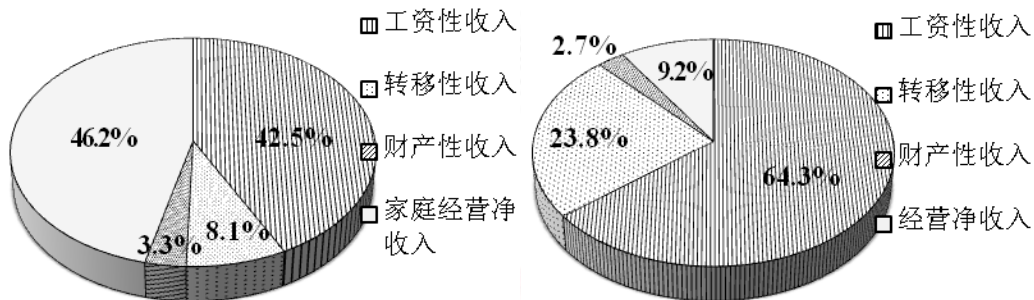
C.2011 年全国居民消费价格变化幅度最大的是肉禽及其制品

D.以上说法都不正确

三、根据以下资料, 回答 121~125 题。

国家统计局对全国 31 个省(自治区、直辖市) 7.4 万户农村居民家庭和 6.6 万户城镇居民家庭进行抽样, 对 2011 年城乡居民收入构成情况进行了调查统计。

2011 年城镇居民人均可支配收入与农村居民人均纯收入之比为 3.13: 1, 2010 年该收入比为 3.23:1。其中, 农村居民人均收入平均数与中位数分别为 6977 元和 6914 元, 城镇居民人均收入平均数与中位数分别为 21810 元和 19118 元。



2011 年农村居民人均纯收入构成

2011 年城镇居民人均纯收入构成









---

C.2010 年废水治理设施处理能力约为 40.35 万吨/小时

D.2006 年到 2010 年，废气治理设施处理能力的的数据呈倒 U 型

※※※ 全部测验到此结束! ※※※