

第一部分 常识判断

(共 20 题, 参考时限 15 分钟)

根据题目要求, 在四个选项中选出一个正确答案。

请开始答题:

1. 2012 年是邓小平“南方谈话”二十周年, 以下不属于“南方谈话”内容的是()。
A. 革命是解放生产力, 改革也是解放生产力
B. 发展才是硬道理, 要抓住有利时机, 集中精力把经济建设搞上去
C. 坚持两手抓, 两手都要硬
D. 一手抓经济发展, 一手抓阶级斗争, 两条主线都要抓好
2. 为了抑制通货紧缩, 国家宏观调控部门可以采取的措施是()。
A. 减少产品出口数量
B. 提高央行基准利率
C. 降低央行再贴现率
D. 提高银行存款准备金率
3. 下列别称、诗人及作品对应正确的一项是()。
A. 诗仙——李白——致酒行
B. 诗圣——杜甫——梦游天姥吟留别
C. 诗佛——白居易——长恨歌
D. 诗鬼——李贺——李凭箜篌引
4. 新中国成立前, 中国共产党在发展过程中曾经历了以下重大历史事件。按时间先后顺序排列正确的是()。
①秋收起义 ②皖南事变 ③陕北洛川会议 ④井冈山会师
A. ①④②③
B. ④②①③
C. ①④③②
D. ④③①②
5. 下列关于四大发明的说法, 正确的是()。
A. 最早解答“指南针为何能够指南”问题的是北宋科学家沈括
B. 造纸术由中国传入阿拉伯地区是在晋朝
C. 活字印刷术与现代铅字排印原理相同
D. 无烟火药的发明者是隋唐时期的中国汉族
6. 根据《中华人民共和国人民调解法》, 下列说法正确的是()。
A. 人民调解委员为调解民间纠纷, 可以适当收取必要的费用
B. 人民调解委员会是依法设立的调解民间纠纷的政府性组织
C. 经人民调解委员会调解达成的调解协议, 具有法律约束力
D. 当事人一方明确拒绝调解的, 人民调解委员会仍有权进行调解
7. 下列各个选项, 说法正确的是()

- A.省政府规章与省级地方性法规不一致的，适用地方性法规
B.地方性法规和部门规章发生冲突时由全国人民代表大会常务委员会裁决
C.教育部的部门规章与人力资源社会保障部的部门规章不一致时，按照新法优于旧法的原则处理，直接选择后颁布的部门规章加以适用
D.某市自己制定的劳动合同法规与我国《劳动合同法》的规定不一致，适用该市的劳动法规

8. 下列关于正当防卫，叙述错误的是（ ）

- A.正当防卫不能明显超过必要限度
B.正当防卫必须是对正在进行的非法侵害行为实行防卫
C.正当防卫必须是对正在进行的非法侵害行为实行防卫
D.正当防卫只能是为了保护本人的人身、财产和其他合法权利而实行防卫

9. 当前，社会主义文化建设的基本任务是（ ）

- A.满足人民基本文化需求
B.科学发展
C.建设社会主义核心价值体系
D.发展文化产业

10. 民政部 2011 年 12 月 16 日正式发布《公益慈善捐助信息公开指引》。《指引》对信息公开时限及方式作出规范。日常性捐助信息，应在信息公开主体收到捐赠后的 _____ 个工作日内公开捐赠款物接受信息；重大事件专项信息，应在收到捐赠后的 _____ 小时内公开捐赠款物接受信息，或按有关重大事件处置部门要求的时限和要求公开。

- A.10, 72
B.10, 48
C.15, 72
D.15, 48

11. 引起周期性失业的原因是（ ）。

- A.工资刚性
B.总需求不足
C.经济中劳动力的正常流动
D.经济结构的调整

12. 十一国庆黄金周，小刘去各地旅游，下列她讲述的见闻中，正确的是（ ）。

- A.去黑龙江漠河看日出，参观中国一汽总部
B.去上海浦东新区，参观了迪斯尼公园
C.去重庆游三峡，吃了美味可口的火锅
D.去海口游玩，在天涯海角摄影留念

13. 下列四条河流中，只流经一个国家境内的是（ ）。

- A.尼罗河
B.亚马逊河
C.莱茵河
D.密西西比河

14. 月相，是天文学中对于地球上看到的月球被太阳照明部分的称呼。农历中，会出现上弦月的是（ ）。

- A.初一
B.初八

C.十五

D.二十三

15. 下列西方著名画家及其流派对应**不正确**的是（ ）。

A.莫奈——印象派

B.达利——野兽派

C.米勒——现实主义

D.梵高——后印象派

16. 下列日常生活中的做法，正确的是（ ）。

A.从市场买回菠萝，用盐水浸泡后再食用

B.看完电视很累，应该立刻上床睡觉

C.喝肉骨头汤能够补充人体需要的钙质

D.让小孩多吃菠菜对身体有益

17. 小王的母亲是 A 型血，小王的父亲是 AB 型血，那么小王的血型**不可能**是（ ）。



A.A 型

B.B 型

C.AB 型

D.O 型

18. 2010 年 11 月 15 日，上海余姚路胶州路一栋高层公寓起火，造成重大伤亡。在发生火灾的时候，对消防安全标识的正确识别能够增加人们生存的机会。下列消防安全标识表示的是发生警报器的是（ ）。



19. 下列关于我国兵役制度说法，正确的是（ ）。

A.我国现行的兵役制度是全志愿兵役制

B.我国兵役制度主要分为义务兵役制和志愿兵役制两种

C.志愿兵役制的优点在于士兵服役时间短，有利于常备军兵员更新

D.义务兵役制的优点在于可以使服役者在军队较长时间服务，有利于熟练地掌握训练难度较大的技术装备

20. 下列说法**不正确**的是（ ）。

A.“嫦娥一号”是我国自主研发并发射的首个月球探测器

B.“神舟一号”是我国载人航天计划中发射的第一艘无人实验飞船

C.“嫦娥二号”是我国首次发射的载人航天飞行器

D. “神舟七号”是在我国酒泉卫星发射中心升空的

※※※ 第一部分结束，请继续做第二部分！ ※※※

25. 可惜的是, 虽然三年间英武殿书画馆的展出已经有了十来期, 画册也已经出了 9 本, 但大多数游览故宫的观众, 却总是_____, 能在书画馆驻足_____古代书画名作真迹之美的, 只是少数。

填入画横线部分最恰当的一项是 ()。

- A. 心不在焉 浏览 B. 浅尝辄止 欣赏
C. 走马观花 亲睹 D. 浮光掠影 精读

26. 全世界成功的政治体制改革, 无一不是从税改入手。英国的光荣革命, 法国的大革命, 美国的独立战争, 全部是因税改而起, 并且都是以税改完成而_____。没有税改的政改, 不过是_____, 拉美和东南亚的政治实践早已证明了这一点。(选自人民网《沐猴而冠·痛心疾首·目不暇接的误用》不知道可以不, 当然题是自己出的)

填入画横线部分最恰当的一项是 ()。

- A. 完结 沐猴而冠 B. 结束 道貌岸然
C. 终结 有名无实 D. 闭幕 名不副实

27. 文章写出来不等于就完事了, 还须反复阅读, 反复斟酌, 反复修改。文章成篇了, 只是解决了主体工程的_____问题, 尚有许多细节需要不断_____, 增删变动。

填入画横线部分最恰当的一项是 ()。

- A. 结构 改头换面 B. 构架 精益求精
C. 框架 移宫换羽 D. 思路 精雕细琢

28. 从法国媒体传来的法国最大的零售商家乐福要撤出中国的消息, 这把家乐福推上了风口浪尖。11 年 9 月 7 日, 家乐福中国方面接受采访时表示, 退出中国市场之说, 纯属_____, 家乐福方面不会做出任何_____, 而坊间传闻接盘的华润集团也给予了否认。

填入画横线部分最恰当的一项是 ()。

- A. 流言蜚语 解释 B. 空穴来风 回复
C. 不经之论 分析 D. 无稽之谈 回应

29. 底层老百姓被逼上绝路之后_____的战争, 这类战争不绝于史。治国当政, 惜民者兴, 践民者亡, 千古一理。封建统治阶级改朝换代的战争。每一个称得上辉煌的朝代, 都是在鼎盛时期就开始积累矛盾, 以致_____。

填入画横线部分最恰当的一项是 ()。

- A. 逼上梁山 积习难改 B. 罄竹难书 根深蒂固
C. 揭竿而起 积重难返 D. 怒不可遏 坚不可摧

30. 不少的人对工作不负责任, _____, 把重担子推给人家, 自己挑轻的。一事当前, 先替自己打算, 然后再替别人打算。出了一点力就觉得了不起, 喜欢自吹, 生怕人家不

知道。对同志对人民不是_____，而是冷冷清清，漠不关心，麻木不仁。这种人其实不是共产党员，至少不能算一个纯粹的共产党员。

填入画横线部分最恰当的一项是（ ）。

- A. 自私自利 满腔热情 B. 拈轻怕重 满腔热忱
C. 避重就轻 热热乎乎 D. 挑三拣四 嘘寒问暖

31. 中国的市场化改革要想不_____，要想走好、走通，先要把保障权利的工作做起来。做好。一个社会中如果有权利保驾护航，市场就只能为人嫁衣而不能_____。

填入画横线部分最恰当的一项是（ ）。

- A. 半途而废 瘠人肥己 B. 功亏一篑 为所欲为
C. 虎头蛇尾 反客为主 D. 有始无终 鸠占鹊巢

32. 古语有云：“非宁静无以致远。”然而，当今社会由于竞争压力加剧等原因，浮躁之风_____。“5天学会绘画”“30天学会英语”“3个月让您的孩子进名校”……走在大街上，类似广告扑面而来。当速度决定一切时，考场作弊、学术抄袭、学位造假等欺诈骗想行为层出不穷，“楼歪歪”“桥脆脆”“地陷陷”等建筑安全事故_____发生……社会急需来一场清凉雨，洗去浮躁的风气，回归_____的境界。

填入画横线部分最恰当的一项是（ ）。

- A. 此起彼伏 时有 脚踏实地 B. 甚嚣尘上 不时 脚踏实地
C. 愈演愈烈 经常 返璞归真 D. 司空见惯 随时 切合实际

33. 慈禧的决断能力在少女时期就有表现。慈禧十二岁时，祖父因为一桩户部亏空案牵连入狱。飞来横祸让慈禧一家_____，父亲顿时措手不及。慈禧建议父亲变卖家产，向亲友告贷，想方设法筹款，先救祖父出狱。

填入画横线部分最恰当的一项是（ ）。

- A. 捶胸顿足 B. 惊恐万分
C. 悲痛欲绝 D. 深恶痛绝

34. 在古代，皇家御用瓷器都是由官窑烧制的，然而在北宋时期，宋徽宗赵佶偏偏喜欢闽北建阳一处民窑烧制的黑釉瓷器，甚至在他的_____下，上至皇家贵族下至_____百姓，无不争相购置。

填入画横线部分最恰当的一项是（ ）。

- A. 熏陶 劳苦 B. 作用 穷苦
C. 宣传 普通 D. 影响 布衣

35. 中国人注重家庭，尊老爱幼，一年一度的春节，是忙碌一年的人们返乡团圆的时候。尽管舟车劳顿，_____，一路行程多有不易，但家庭的温馨，亲友的微笑，却足以_____所有不快和烦恼。

填入画横线部分最恰当的一项是（ ）。

- A.跋山涉水 祛除
B.餐风宿露 荡涤
C.栉风沐雨 告别
D.风尘仆仆 驱除

36. 这是一篇让我_____的好文章，它既揭示问题，分析原因，也给人_____，正如作者所言中国肯定会变得很好的。对此，我深信不疑。

填入画横线部分最恰当的一项是（ ）。

- A.如梦初醒 动力
B.醍醐灌顶 希望
C.如坐云雾 希冀
D.茅塞顿开 期许

37. 美伊局势趋于紧张，为获取主动权，双方均忙于奔波。一方面，美国_____壮大制裁伊朗的队伍，另一方面，伊朗也在美国“后院”_____寻求拉美支持，双方你来我往互不相让。

填入画横线部分最恰当的一项是（ ）。

- A.费尽心机 积极
B.殚精竭虑 扰动
C.处心积虑 搅动
D.无所用心 搅和

38. 一再回避两岸议题的蔡英文在美国抛出“台湾共识立法”主张，遭到外界强烈_____，她单兵作战，没有前锋也无后卫，民进党内乏人帮衬，也没人敢随便出手敲边鼓，绿天王更是_____。闪亮的舞台上就只有她一人，天王们充斥坐等“后蔡英文时代”来临的氛围。

填入画横线部分最恰当的一项是（ ）。

- A.质问 侧目而视
B.置疑 漠然置之
C.质疑 冷眼旁观
D.怀疑 见死不救

39. 学会发现，不是为了发现而去发现。不是_____般地将西方世界前沿的商业模式，_____成一个个“东方四不像”，不是将创新当场业余爱好，而是真刀真枪地寻找远方。

填入画横线部分最恰当的一项是（ ）。

- A.邯郸学步 偷梁换柱
B.东施效颦 移形换位
C.亦步亦趋 移花接木
D.照猫画虎 暗度陈仓

40. 陶瓷文化，在民族母体中孕育，_____与繁荣，它凝聚着创作者的_____，留存着创作者心手相应的意气的艺术形象，表现着民族文化，展现着广阔的社会生活画卷，记录着芸芸众生的_____。

填入画横线部分最恰当的一项是（ ）。

- A.成长 情感 悲欢离合
B.发展 情绪 酸甜苦辣
C.生长 热情 喜怒哀乐
D.长成 感情 人生百态

41. 无论四核处理器的功能有多强大，对于最终用户来说，关心的并不是自己的手机到底是几“核”，而是它呈现出来的价值形式，是包括手机性能、电池能力、使用体验在内的一种平衡。

在这方面，四核的大规模普及还是面临着一些问题，比如，四核处理器的成本较高，这直接影响了四核手机的零售价格，我们也看到，目前这些四核手机的价格还是比较高，主要针对的还是中高端市场，如果价格门槛不能降低，势必会妨碍其成为主流。另外，四核处理器往往耗电量巨大，如何解决这个致命问题，是手机厂商们必须面对的。

这段文字主要表达了（ ）。

- A.四核手机功能强大，已逐渐发展为手机市场的主流产品
- B.只要克服了价格和耗电量问题，四核手机都能够市场大规模普及
- C.四核处理器的高成本决定了四核手机主要针对中高端市场
- D.四核手机想要被用户广泛接受必须达到性能与价格的内在平衡

42. 最低工资制度有效保护了雇工阶层的利益。法国政府规定，全民工作者最低薪金限度为每月毛工资 1398.37 欧元，行业雇主支付雇工的工资不低于此标准。这种最低工资制度有效化解了雇主与雇工之间的矛盾，这是法国人不仇富的第一要素。政府的财富平均主义，削弱了贫富差距，减弱了敌视程度。政府通过征税，给予贫困家庭、住房、医疗、保险、子女学习等各项福利补贴，国家通过税收实行财富再支配，某种程度有劫富济贫的意味，这是法国人不仇富的第二要素。政府对富豪征收特别重税，除去征收富豪企业的各项企业税收，还专门制定征收巨富税等等，根据月收入、拥有财产的数量等征收额外巨税。也就是说，越是巨富，越是有钱，交税也就越多，分摊给贫寒阶层的数额也就越大，这是法国人不仇富的第三要素。

根据这段文字，以下哪项描述是正确的（ ）。

- A.在法国，没有一个人的收入低于 1398.37 元
- B.在法国，穷人和富人享有同等程度的福利补贴
- C.法国政府的最低工资制度和税收制度维护了贫困人民的利益
- D.法国富豪对政府的高额税款颇有异议

43. 经验告诉我们，凡是权力存在的地方都可能出现权力的滥用和权钱交易的腐败。但我们的组织、人事部门或者单位职员，通常还是相信“一把手”的能力和魄力，并寄予他们更多的希望，相信他们对于事业的忠诚，相信他们不会辜负组织的重托。也正因为如此，我们在制度设计上，往往对企业“一把手”的规制明显减弱，甚至允许他们自行“建章设制”，默许他们有更多的“特权”去突破规则去进行所谓的“开拓创新”。久而久之，培养了“一把手”好大喜功、轻视民主、藐视规则的习性，有的甚至已经达到了积重难返的程度。

通过这段文字，作者主要表达了（ ）

- A.大多数“一把手”辜负了组织和下属对于他们的信任和期望
- B.抓好“一把手”是反腐败工作中最重要的环节
- C.制度制定和实施过程中的松动为“一把手”造就了腐败的温床
- D.那些腐败的“一把手”往往是无视制度，为所欲为的

44. 自上世纪末期以来,我国已经在森林、草原、流域、湿地、区域、海洋、矿区等七大领域开展了生态补偿试点,森林生态效益补偿基金制度全面建立,草原生态保护补助金机制迈出实质性步伐,部分省市初步建立了省内流域生态补偿机制。然而,困难和问题也逐渐凸显,补偿领域和主体、客体不明确,造成生态受益者与生态保护者之间的利益关系脱节;补偿方式单一,标准偏低,资金来源渠道较少,市场机制的作用没有充分发挥,影响了生态保护者的积极性;而补偿资金使用不规范,缺乏有效监督考核体系,也制约了可持续效果。

这段文字主要表达了()

- A.我国已经在众多领域开展了生态补偿试点
- B.随着试点的增多,我国生态补偿面临着更多的困难和挑战
- C.维护好生态保护者的利益是确保生态补偿可持续效果的关键
- D.我国实施生态补偿的效果甚微,需克服大量问题和困难

45. 新生代农民工频繁换工作的一个重要原因是在用工单位获得内部提升的空间相当有限。有数据显示,超过 1/3 的农民工在上一份工作期间,薪酬、技能和管理层级均无提升。同时,他们在用工单位间的流动也是“水平化”的,多数人换工作后并未获得职业地位的提升。以某著名电子企业为例,通常一个普通工人要通过近 10 年的努力,才可能接近正式员工最底层的薪资水平,而这已是晋升的最高层级了。这对一心期望通过自身奋斗在城市中留下来发展的新生代农民工来说,显然是无法忍受的。因此,频繁跳槽成为无奈之举可能,直接导致“用工荒”等社会问题。

这段文字意在表明()。

- A.农民工频繁跳槽是“用工荒”的突出表现
- B.农民工的薪酬、技能和管理层级都急需提高
- C.农民工在发展过程中遭受了许多不公正的待遇
- D.提升农民工的发展空间是解决“用工荒”等社会问题的关键

46. 企业在使用“空降兵”时必须满足以下两点要求:首先是要选择正确的人,企业在确保“空降兵”候选人的工作能力和经验与企业的岗位需求匹配的情况下,还需要确保候选人的价值观以及相应的工作风格能够与组织的文化和氛围相匹配,因为后一个方面的因素往往是决定“空降兵”能否很快融入组织文化以及被组织内部人接受的最为重要因素之一。其次是企业必须对“空降兵”的作用有一个清晰的认识:“空降兵”进入企业尤其是在进入组织的初期阶段可能遭遇的种种不利因素,通过创造各种条件,帮助“空降兵”尽快融入公司的文化,减少变革的阻力,尤其是帮助他们尽快被组织现有的“内部人”所接受,从而为组织做出贡献。

这段文字主要表达了()。

- A.空降兵选择不当,会为企业的发展带来极其负面的影响
- B.空降兵的工作能力和经验与岗位的匹配只是次要的

C.空降兵不但要与组织文化氛围相匹配，还需要客观条件的支持协助

D.空降兵被组织的内部人所接受并非易事

47. “伪语境”是为了让脱离生活.毫无关联的信息获得一种表面的用处。迈克尔·杰克逊的死亡新闻本应是以纪念为主的报道方式，但他是世界级的“娱乐天王”，他的死却引发了网友们对他诸如吸毒.整容等独特的私生活的关注。网友们乐此不疲的搜集并转帖杰克逊私生活的相关信息，完全转变了现实中真事件应有的意义。这种对真事件的转义传达的是“假信息”：我们原本对于事实真相无从了解，对事实的解释更是充满了开放性与多样性，媒体生态决定了我们理解事实的方向和原则。网络媒体转义了原本严肃的杰克逊死亡新闻，因为网络媒体的生存之道就在于，只要将娱乐属性赋予任何事件，都将有汇聚庞大注意力的潜能。

这段文字意在表达（ ）。

A.媒体为了汇聚网民的注意力，大肆营造“伪语境”以增加娱乐属性

B.网民们对于被娱乐属性所赋予的事件总是乐此不疲

C.迈克尔·杰克逊的死亡引发了网友对其生前私生活的广泛关注

D.网络上有许多报道是被媒体渲染而失去真实性的

48. 如今已有一些大公司实行联席首席执行官管理模式。有些公司，如摩托罗拉，设立联席首席执行官是权宜之计——在摩托罗拉移动被剥离前，桑贾伊·杰哈被任命为联席首席执行官。虽然也有长期联席首席执行官的例子，但他们的表现并不出色。黑莓手机生产商 RIM 的联席首席执行官机制已宣告失败。美国有机商品超市 Whole Foods 在首席执行官约翰·麦基卷入丑闻后才设置了一位联席首席执行官。美国漫画出版商阿奇漫画（Archie Comics）的联席首席执行官南希·西尔伯克莱特上个月收到了一张法院的禁止令，禁止她再进入公司总部。SAP 目前也运用联席首席执行官模式，我们将继续关注其具体效果如何。这些案例说明对于大公司而言，联席首席执行官模式不伦不类，绝非勇气可嘉的新尝试。

根据这段文字，可以看出作者对于联席首席执行官的态度是（ ）。

A.观望

B.反对

C.中性

D.赞成

49. 为了将与国际接轨的知识产权立法从一种“书本上的法律”，变为“现实中的法律”，中国在司法过程中形成了“严格遵守国际协议”的司法政策。在审理知识产权案件中，坚持“国际法高于国内法的原则”，对国际协议作出严格的解释。在知识产权领域中的法律移植已经取得巨大的成就。这样的法律被看成是吸收了西方智慧成果的良好，它尊重了人类的智力价值，保护了国家的竞争力，促进了科技进步。然而，这个良法在实施过程中，在某种程度上它保护了西方跨国公司的垄断利益，保护了西方国家的竞争力，而对于中国这样一个发展中国家的经济发展和技术进步却带来了危害。

根据这段文字，作者想要表达的意图是（ ）。

- A.移植国际法并不适用于中国的知识产权领域
- B.国际法立法的目的在于保护西方国际的垄断利益
- C.只依靠移植国际法是不利于中国的发展与进步的
- D.移植国际法能帮助中国知识产权管理更好地与国际接轨

50. 我们常常说要建立适合市场经济的新道德. 新伦理, 这种说法是错误的。应当要用比较有强度的. 有基础的道德来制约市场经济发展, 要使市场经济能够服从最基本的伦理规范。资本主义追求的就是利润, 市场经济必然唯利是图, 如果一个资本家不唯利是图也不对, 所以这就是问题所在。不可能从市场经济的内部产生出不讲利润的道德, 它的内在需要就是唯利是图。如果资本主义有道德, 那么它一定是外在的东西, 基本上是在前资本主义时代. 在人类千百年文明历史中所形成的基本道德规范。在西方社会, 基本上是以基督教. 天主教等等为基础所形成的道德。

根据这段文字, 作者意在表达 ()。

- A.市场经济本身是无道德和伦理可言的
 - B.市场经济的道德来源于人类的基本道德规范
 - C.宗教造就了市场经济的基本道德
 - D.资本家唯利是图是无可厚非的
51. 食品当中的危害无论是生物性(如致病性大肠杆菌)还是化学性(如农药残留). 物理性(放射性核素等)危害, 凡是可能影响健康的因素, 我们称之为危害。根据前述定义, 这个危害无所不在。现有检测手段已非常先进, 只要有痕量或者超痕量的都可检出来。随便到市面拿一个食品检测, 或多或少都可以找到生物性. 化学性或物理性的危害。所以对政府来讲, 要保障大家的食品安全进行监管, 他的任务不是要消除危害, 而是控制风险。所谓风险则是生物性. 化学性. 物理性可能造成的损害。比如北京烤鸭皮是化学性危害, 但风险很低, 因为对健康造成不良影响的可能性很小, 强度很弱, 我国政府的任务就是把风险控制可在接受范围内。

这段文字意在表达了 ()。

- A.食品监管的目的在于控制风险
 - B.食品危害主要包括生物性. 化学性. 物理性三类
 - C.食品的危害性普遍存在
 - D.控制食品危险刻不容缓
- 52.
- ①一方面, 网络购物可以让你足不出户就能买到自己心仪的产品
 - ②于此同时, 却也带来了一些隐患
 - ③怎么解决这个问题呢?
 - ④二十一世纪前十年, 网络购物的普及, 给人们的生活带来了巨大的改变

⑤一方面，网络购物毕竟不是现实，不可能一手交款一手交货，存在一定的风险

⑥相关法律法规的出台将有效的规范网络购物市场

将以上 6 个句子重新排列，语序正确的是（ ）

A.④②①⑤③⑥

B.⑥⑤①②③④

C.③①⑤④②⑥

D.④③②⑤①⑥

53.

①像一只两只断魂的金蝴蝶

②在树下铺出一片金红的地毯

③接着，便有哗哗的金红的阵雨了

④最初坠落的，也许只是那么一片两片

⑤北国的落叶，渲染出一派多么悲壮的气氛

⑥而在这地毯之上，竖着光秃秃的疏落的树干和枝桠，直刺着高远的蓝天和淡云

将以上 6 个句子重新排列，语序正确的是（ ）

A.⑤④③①②⑥

B.④③①②⑥⑤

C.⑤④①③②⑥

D.③②④①⑥⑤

54. 灰尘是人类健康的大敌，因为它可能传播疾病，工业粉尘、纤尘能使工人患上各种职业病，过多的灰尘还会造成环境污染，诱发人类呼吸道疾病等等。但是，灰尘的功劳也决不能抹杀。假如大气中没有灰尘，太阳光就得不到吸收、反射、散射和折射，天空不是太亮，就是太黑。灰尘是吸湿性微粒，没有它这个核心，空气中的水汽无法凝结，天上的云就难以形成，地表失去了云层的覆盖，就会变得干旱贫瘠，天气不是太热，就是太冷。没有灰尘，宇宙中的许多有害射线会毫无阻挡闯进地球表面，并对人类和各种生物产生致命的威胁。

这段文字主要谈论的是（ ）。

A.灰尘会给人带来大量的危害

B.我们要重视灰尘的作用

C.灰尘对于人类的有利作用

D.灰尘对人类的作用利大于弊

55. 由于有机农产品不使用化学农药，化学农药的残留要比常规农产品低得多，在这方面可以说较为安全。但是有机农业并非就完全不使用农药，只不过用的是源于细菌、植物的所谓天然农药。其实，有些天然农药已被发现具有一定的毒性。例如有机农业使用的天然杀虫剂鱼藤酮具有肝毒性，还能诱发帕金森病。另一类天然杀虫剂除虫菊酯有的具有神经毒性，它们的毒性有时比人工合成的拟除虫菊酯要高得多。有机农业通常使用铜盐作为杀真菌剂，导致有机农产品中铜的含量要比常规农产品高。如果人体摄入过量的铜，也会对健康有害。

这段文字意在提示人们（ ）。

A.有机农产品未必一定是健康产品

B.天然农药同样会存在农药残留问题

C.使用天然农药的有机食品相对健康

D.有机农产品存在的主要问题

56. 家庭中，特别是关系亲密的家人之间，是一个相对安全包容的环境。有些时候，我们在外面受了委屈或承受一些压力，没有办法发泄出来，只好到家中进行宣泄。这是我们对待家人的时候存在着放肆性，就像孩子面对母亲，这本是很正常的一件事。但令人担忧的是，往往这种宣泄是通过非秩序沟通实现的。在压力下的我们，往往忘记了怎么好好说话。我们在宣泄过程中对家人使用嘲讽、歪曲、夸大、贬低、晦暗等等的语言。压力虽然能得到一定的释放，却给家人却带来了伤害。如果家人对我们的伤害进行反弹，家庭的冲突就会愈演愈烈。就这样，_____。

填入画横线部分最恰当的一句是（ ）。

A.良好的家庭氛围就被我们的放肆性破坏了。

B.家庭冲突不能够很好地得到解决。

C.我们需要收敛自己才能够安抚家人。

D.每一次冲突都不能得到彻底地发泄。

57. 日本茨城大学研究人员发现用作建筑材料的日本大谷石内含有的沸石能有效吸附放射性铯，这一发现将有助于处理福岛第一核电站事故后受到放射性污染的废弃物。大谷石是一种凝灰岩，由于非常容易加工，它自古以来就被作为建筑材料修筑多种围墙。研究发现，只需 10 克大谷石粉末就足够吸附 1 克铯。研究人员表示，今后在掩埋核泄漏灾区的污泥、灰烬和落叶时，可将大谷石粉末铺在掩埋区域的最下层，从而防止铯泄漏到地下。茨城大学已将地震后成为废弃物的 2 吨大谷石制成粉末并装袋保管，准备用于处理受到放射性污染的物质。

这段文字意在说明（ ）。

A.核辐射处理手段在不断取得新的进展

B.日本即将用于处理放射性铯的新方法

C.寻常建筑用品可能具备不寻常的功能

D.大谷石可以处理核泄露灾区的所有污染

58. 现代植物保护学科发展的总趋势是朝着微观、宏观两个方向发展，在宏观指导下同时进行微观研究，并将微观资料进行宏观分析和处理，不断发展病虫治理新理论和新技术。在宏观方面，应用生态学和系统工程学的原理和方法建立农业生态系统中病虫害监控决策体系；在微观方面，以分子生物学和基因工程的理论和技术为基础对病虫灾变机理进行分析，并为决策提供依据。21 世纪植物保护学科的发展必将为建立有利于提高农业的综合生产能力，保护生物多样性，控制环境污染和节约能源的植物保护技术提供理论知识和技能，为农业的可持续发展和生态环境的保护提供保障。

这段文字意在说明（ ）。

- A.未来植物保护学科发展将趋向于宏观和微观的统一
B.任何事物的发展都需要学科在微观分析和宏观决策
C.农业的发展和生态环境的保护与现代植物保护学科的发展相互渗透.相互促进
D.现代植物保护学科的发展将为农业和生态环境的发展提供科学保障

59. 部分旅游企业为了吸引游客, 通过微博发布了过于夸张的服务信息, 非但不能给企业带来正面的品牌宣传效果, 还会使企业形象受损。业内人士认为, 旅游企业在官方微博发布内容和回复网友评论时需要注意言行一致, 做好后期服务。一旦遇到危机事件, 应在第一时间表明企业对危机事件诚恳的处理态度和公正的处理方式, 在消费者心中塑造正面的企业形象。微博作为时下较为新潮的网络社交方式, 也为企业提供了一种全新的营销视角。但是, 对广大旅游企业来说, 建立微博营销的制度规范, 诚信经营微博以树立企业形象还有很长一段路要走。游客也要多留个心眼, 防止上当受骗。

这段文字意在揭示 ()。

- A.旅游企业内部因为微博夸张的服务信息引发了争论
B.旅游企业只有诚信经营才能从微博营销真正获益
C.微博给广告营销提供了新的途径
D.微博营销制度不规范导致游客因旅游微博信息受骗
60. 专列旅游主要是针对老年团队打造的, 首先它非常的方便, 旅游专列充分利用了专列沿途停靠. 边走边玩的优势, 把旅程沿途的一些景点串联成几条经典旅游线路, 避免了交通上的限制。另外, 与普通出游不同的是, 各地政府和接待部门对旅游专列都特别重视, 而景点也都经过了旅行社的实地考察, 政策上的支持和贴心的服务更为老年团营造出舒适的旅游氛围。专列旅游全程除了导游. 领队, 还有医生和铁路乘警, 而对于一些年龄较高的老年人, 还可以让子女陪同, 非常贴心, 所以, 专列游吸引了一批又一批的老年游客。

这段文字意在说明 ()。

- A.新兴的专列旅游深受老年人的欢迎的具体原因
B.老年游客逐渐成为旅游行业的重点顾客
C.老年人出游需要安排重点防护和便利措施
D.有必要将专列旅游推广到年轻人群体

※※※ 第二部分结束, 请继续做第三部分! ※※※

第三部分 数量关系

(共 15 题, 参考时限 20 分钟)

67. 某公司把翻译一份英文资料的任务交给小张和小李。小张单独翻译需要 13 个小时，两人合作翻译这份资料，由于合作默契，小张的效率比单独翻译提高 $\frac{3}{10}$ ，小李的工作效率比单独翻译

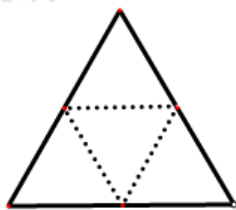
提高 $\frac{2}{15}$ ，两人合作翻译需要 6 个小时。问小李单独翻译需要几个小时？（ ）

- A.15
C.17
- B.16
D.18

68. A、B 两地相距 100km，甲、乙两车在 A、B 两地同时相向而行，甲的速度是 50km/h，乙的速度比甲快 20%。甲、乙两车到达目的地后立即返回，并在 A、B 两地间不断往返。问经过 10 小时后，两车总共相遇几次？（ ）

- A.6
C.8
- B.7
D.9

69. 将一个正三角形沿三边中点的连线折起（如下图所示），可以拼成一个正三棱锥，已知三角形的周长为 6，问拼成的正三棱锥的体积是多少？（ ）



- A. $\frac{\sqrt{2}}{12}$
C. $\frac{1}{3}$
- B. $\frac{\sqrt{3}}{12}$
D. $\frac{\sqrt{2}}{4}$

70. 某商店进了一些苹果，在成本的基础上加价 50% 出售，售出 40% 的苹果后为了尽早卖完苹果，商家打折出售了剩余的苹果，结果实际利润是按原定价出售利润的 64%。问商家打几折出售的苹果？（ ）

- A.6
C.8
- B.7
D.9

71. 在学校组织的运动会上，某班的 25 名运动员中，有 14 名参加了赛跑，11 名参加了跳远，8 名参加了跳高。有 6 人既参加赛跑又参加跳远，有 5 人既参加赛跑又参加跳高，有 4 人既参加跳远又参加跳高，有 2 名这三个项目都参加。问这 25 名运动员中，只参加一个项目的有多少人？（ ）

- A.5
C.9
- B.7
D.11

72. 小李在网上团购了 23 张机票，商务舱原价 1500 元一张，团购可以打 8 折；经济舱原价 800 元一张，团购可以打 6 折。小李团购的机票比原价一共省了 30%，那么小李买了多少张商务舱机票？（ ）

A.8 B.10

C.13 D.15

73. 将 20 拆成若干个自然数的和，这些自然数的积最大为多少？（ ）

A.625 B.900

C.1024 D.1458

74. 3 个学生做 20 道奥数题，每个学生都做对了 8 道题，且每道题都有学生做对。如果只有一位学生做对的题叫做难题，有两位学生做对的题叫做中等题，三位学生都做对的题叫做容易题。

在这 20 道题目中，难题、中等题、容易题均有，且数目不相等。则难题的数目是多少道？

（ ）

A.15 B.16

C.17 D.18

75. 甲、乙两杯酒精溶液的浓度分别为 40%和 75%，从甲杯溶液中取出 $\frac{1}{3}$ ，从乙杯溶液中取出

$\frac{1}{2}$ ，正好兑成了浓度为 50%的酒精溶液 140 克。问原来甲杯酒精溶液有多少克？（ ）

A.80 B.100

C.240 D.300

※※※ 第三部分结束，请继续做第四部分！ ※※※

第四部分 判断推理

(共 35 题, 参考时限 35 分钟)

一、图形推理。请按每道题的答题要求作答。

请开始答题:


76. 请从所给的四个选项中, 选择最合适的一个填入问号处, 使之呈现一定的规律性:



77. 请从所给的四个选项中, 选择最合适的一个填入问号处, 使之呈现一定的规律性:



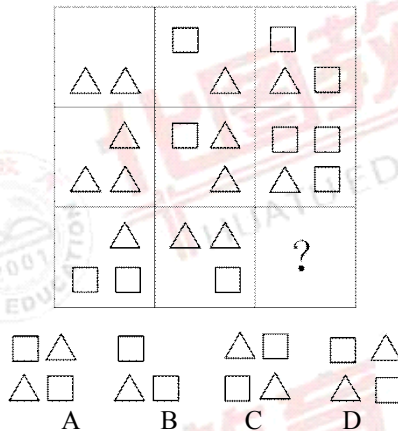
78. 请从所给的四个选项中, 选择最合适的一个填入问号处, 使之呈现一定的规律性:



79. 请从所给的四个选项中, 选择最合适的一个填入问号处, 使之呈现一定的规律性:



80. 请从所给的四个选项中, 选择最合适的一个填入问号处, 使之呈现一定的规律性:



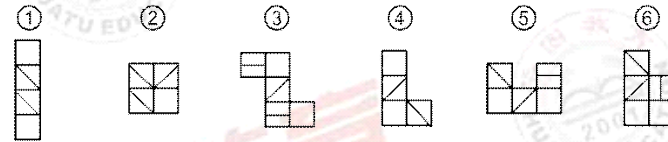
以下 81-85 题，每个题目包含六个图形，请把此六个图形分为两类，使得每一类图形都有各自的共同特征或规律。

81. 把下面的六个图形分为两类，使每一类图形都有各自的共同特征或规律，分类正确的一项是 ()。



- A. ①②⑥, ③④⑤
 B. ①③⑥, ②④⑤
 C. ①④⑤, ②③⑥
 D. ①④⑥, ②③⑤

82. 把下面的六个图形分为两类，使每一类图形都有各自的共同特征或规律，分类正确的一项是 ()。



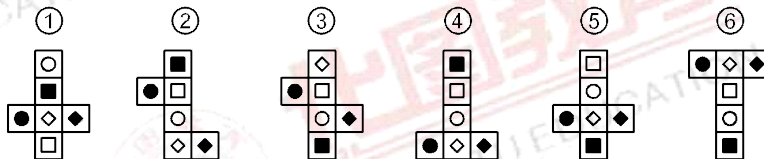
- A. ①②④, ③⑤⑥
 B. ①②⑤, ③④⑥
 C. ①②③, ④⑤⑥
 D. ①③④, ②⑤⑥

83. 把下面的六个图形分为两类，使每一类图形都有各自的共同特征或规律，分类正确的一项是 ()。



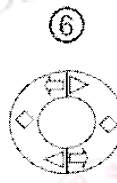
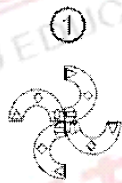
- A. ①②④, ③⑤⑥
 B. ①③⑥, ②④⑤
 C. ①②⑤, ③④⑥
 D. ①④⑤, ②③⑥

84. 把下面的六个图形分为两类，使每一类图形都有各自的共同特征或规律，分类正确的一项是 ()。



- A. ①②⑥, ③④⑤
 B. ①③⑥, ②④⑤
 C. ①③⑤, ②④⑥
 D. ①③④, ②⑤⑥

85. 把下面的六个图形分为两类，使每一类图形都有各自的共同特征或规律，分类正确的一项是 ()。



A. ①②⑥, ③④⑤

B. ①②④, ③⑤⑥

C. ①③⑤, ②④⑥

D. ①④⑤, ②③⑥

二、定义判断。每道题先给出一个定义，然后列出四种情况，要求你严格依据定义，从四个备选项中选出一个最符合或最不符合该定义的答案。注意：假设这个定义是正确的，不容置疑的。

请开始答题：

86. 生态建筑是指在建筑的整个建造和使用期限内，在完成建筑功能的前提下，通过组织和设计建筑内外空间中的各种物态因素，使能源的消耗和对环境的影响尽可能地小，获得一种高效、低耗、无废、无污、生态平衡的建筑环境。

根据上述定义，以下符合生态建筑理念的是（ ）。

- A. 某高档小区内花高价种植和养护名贵花草，为居民营造绿色、优美的居住环境
- B. 某开发商通过开发原始森林，建造出空气清新、负氧离子含量极高的度假村
- C. 某建筑采用新型曲面玻璃墙从而达到调整日辐射热量的效果，节省了用电量
- D. 某写字楼专门拿出一层办公室，免费供环保公益组织开展宣传、讲座等活动

87. 沉默的螺旋概念基本描述了这样一个现象：人们在表达自己想法和观点的时候，如果看到自己赞同的观点，并且受到广泛欢迎，就会积极参与进来，这类观点越发大胆地发表和扩散；而发觉某一观点无人或很少有人理会，即使自己赞同它，也会保持沉默。意见一方的沉默造成另一方意见的增势，如此循环往复，便形成一方的声音越来越强大，另一方越来越沉默下去的螺旋发展过程。

根据上述定义，以下属于沉默的螺旋的表现的是（ ）。

- A. 网络的匿名性使许多人敢于在网络上表达自己与众不同的的想法和意见
- B. 竞选总统时，某一方都通过媒体夸大自己的支持率，使原本持观望态度的选民倒向自己一方
- C. 小明和小华对某习题的答案有争执，小明虽然心有不服，但还是改成了小华的答案
- D. “地心说”曾经得到许多科学家的支持，但之后却被“日心说”所取代

88. 多品牌策略是市场营销中品牌策略的一种，即同一公司的主要产品以多个不同的商标在市场上销售，各品牌的同类商品往往是不同质的，或者不同的品牌占据不同的细分市场或不同的地理市场区域。

根据上述定义，以下属于多品牌策略的是（ ）

- A. 某饮料公司先后推出了一般可乐、低糖可乐、零度可乐、水果口味可乐等多种不同种类的产品

B.某鞋业企业下旗下既有针对职业女性的百丽、思加图等品牌，也有设计相对休闲的天美意、妙丽等品牌

C.某教育产品公司在第一代学习机的基础上，进行技术革新，推出功能更全面、受众更广的第二代学习机

D.在A快餐店推出川辣汉堡后，B快餐店推出其没有的咖喱味汉堡，以此来争夺更多消费者

89. 角色间冲突是指一个人扮演不同的角色时，不同角色提出不同甚至矛盾的要求，由于个人不能同时满足所有这些角色要求，造成不合时宜而发生矛盾和冲突。

根据上述定义，以下属于角色间冲突的是（ ）。

A.小李在公司中是业务精英，同时在家中又是个好丈夫、好父亲

B.青年演员小张演技出众，对于任何角色都能诠释到位

C.新老师小张想要在课堂上大胆创新，但经验所限达不到自己的理想状态

D.小赵升入高中后因担任学生会主席牵扯了过多精力，学习成绩一落千丈

90. 玻璃少年是指青少年因为学业负担重、学习压力大，出现颈椎病、情绪障碍、睡眠障碍等疾病，导致体质差和心理承受能力差的情况。

根据上述定义，以下描述不属于玻璃少年的是（ ）。

A.小张由于父亲突然去世，学习成绩大幅下降，并出现了严重的抑郁

B.小李每到周末要奔波于各个考试辅导班，没有时间锻炼身体，经常感冒发烧

C.小赵因为学习成绩不好总被老师批评，产生厌学情绪，常常装病在家逃避上课

D.小王总是担心考的不好父母会批评她，每次期末考试前都会紧张的睡不着

91. 邻避效应指居民或所在地单位因担心建设项目对身体健康、环境质量带来诸多负面影响，从而激发人们的嫌恶情结，滋生“不要建在我家后院”的心理，及采取的强烈和坚决的、有时高度情绪化的集体反对甚至抗争行为。

根据上述定义，以下涉及邻避效应的是（ ）。

A.某机场附近的居民因不堪机场噪音严重扰民，纷纷提出在机场外围建立隔音墙

B.某海上油田发生漏油事故，严重污染海洋环境，主管部门对其实施重罚并责令立即整改

C.某小区内宠物随地大小便情况严重，部分居民向业主委员会提出抗议要求小区内禁养宠物

D.某写字楼要在楼内更换新型空气净化系统，但由于价格太高遭到写字楼内企业联名反对

92. 竞争优势效应是指当合作对双方都有利时，人们也往往会优先选择竞争，导致双方利益的损失。

根据上述定义，以下不属于竞争优势效应的是（ ）。

A.一对夫妻离异，丈夫为了不把一半财产转让给妻子，以超低价将自己的车、房转卖出去

B.罗伯斯与刘翔比赛时，用手阻拦其前进，结果使刘翔只获得第三名，罗伯斯也被取消了成绩

C.某位老师在课堂上使用小组合作学习的方式，通过组与组之间的竞争提高了学生的学习成绩

D.A 工厂为和 B 工厂抢夺市场，压缩生产成本制造低质量产品，结果市场信誉大受影响

93. 具体行政行为，是指由行政主体针对特定的公民、法人或者其他组织，就特定的具体事项，作出的有关该公民、法人或者其他组织权利义务的单方行为。

根据以上定义，下列属于具体行政行为的是（ ）。

- A.税务局对某企业的处罚决定
- B.行政机关购买办公用品
- C.市级人民政府制定规范性文件
- D.国家机关对行政行为进行立法

94. 文化休克是指一个人进入到不熟悉的文化环境时，因失去自己熟悉的所有社会交流的符号与手段而产生的一种迷失、疑惑、排斥甚至恐惧的感觉。

根据上述定义，以下属于文化休克的是（ ）。

- A.小张刚刚到美国留学，对于周围的一切都感到新鲜，积极参加学校的社团活动，与不同国家的同学进行交流
- B.小李在国外工作一年后回到中国，因为长时间坐飞机和时差颠倒的缘故，十分不适应，身体出现各种症状
- C.小王出国后与外国的同学共同租房居住，外国的同学经常带朋友回来玩到半夜，小王与其沟通无果，感到十分愤怒
- D.某学者发现在美国的东南亚留学生往往更具有紧张感，主要是因为他们的生活方式、宗教信仰与美国差异较大造成

95. 增值税：是指以商品流通和劳动服务在各个流转环节的增值额为征税对象的一种税。它是以商品销售额和应税劳务营业额为计税依据运用税收抵扣原则征收的一种流动税。它是具有以下特征：①征收对象是法定的增值额；②税负公平合理，具有中性税属性。

根据上述定义，下列情况中属于征收增值税的是（ ）。

- A.企业员工每月上缴的个人所得税
- B.儿子继承了父亲的遗产
- C.农民要缴纳一定数额的农业税
- D.房东将自己的房产出租

三、类比推理。每道题先给出一组相关的词，要求你在四个备选项中找到一组与之在逻辑关系上最为贴近、相似或匹配的词。

请开始答题：

96. 生病：死亡

A.结冰：低温

B.投资：盈利

- C.面试：签约
D.杰出：成功
97. 爱莫能助：无能为力
A.别具匠心：鬼斧神工
B.史无前例：史不绝书
C.木已成舟：刻舟求剑
D.铁杵成针：锲而不舍
98. 车间：生产：机器
A.会议室：讨论：议题
B.车站：乘车：座位
C.战壕：战斗：手枪
D.幕布：话剧：剧场
99. 高铁：列车：铁轨
A.机翼：飞机：机场
B.青花瓷：瓷器：窑
C.电视：家电：商店
D.火星：行星：太空
100. 瘦肉精对于（ ），相当于（ ）对于牛奶
A.猪肉：三聚氰胺
B.屠夫：营养
C.蛋白质：脂肪
D.饲料：牛

四、逻辑判断。每道题给出一段陈述，这段陈述被假设是正确的，不容置疑的。要求你根据这段陈述，选择一个答案。注意：正确的答案应与所给的陈述相符合，不需要任何附加说明就可以从所给的陈述中直接推出。

请开始答题：

101. 大学毕业生是国家宝贵的人才资源，是现代化建设中一支高素质的生力军。但国际金融危机冲击使得很多大学毕业生陷入找工作难的困境。为了摆脱这种困境，对大学毕业生自身而言，增强自信心是必不可少的条件，而较高的知识水平和较强的工作能力是增强自信的必要条件。由此可以推出（ ）。
- A.有了自信心，大学毕业生就能摆脱找工作难的困境
B.有了较高的知识水平和较强的工作能力，就可以增强大学毕业生的自信心
C.如果没有较高的知识水平，大学毕业生就不能摆脱找工作难的困境
D.如果没有增强自信心，说明大学毕业生没有较高的知识水平或者较强的工作能力
102. 据可靠机构调查，美国离婚率约为 50%，同时，非裔公民组成的婚姻数量远远多于亚裔公民组成的婚姻数量。在除非裔和亚裔的其他美国公民中，离婚率约为 55%的。由此可见（ ）。
- A.非裔未离婚的公民多于亚裔离婚的公民
B.非裔离婚的公民多于亚裔未离婚的公民
C.非裔离婚的公民多于亚裔离婚的公民
D.非裔未离婚的公民多于亚裔未离婚的公民

103. 对于一般的办公人员来说，在使用电脑的过程中，能够给他们带来方便、易操作的办公软件，可以视为一个好的软件。但是那些升级频率太高的办公软件，可能并不能被视为一个好的软件。

以上推断基于的假设是（ ）。

- A. 升级频率过高的软件，需要办公人员花费额外的资金
- B. 升级频率太高的软件，因为功能变化过于频繁，并不利于操作
- C. 电脑中的办公软件不需要进行经常升级
- D. 电脑中办公软件的升级，需要考虑到用户的操作体验

104. 心境是一种使人的一切其他体验和活动都染上某种情绪色彩的、微弱而持久的情绪状态。持续不良的心境，会使个体处于压抑、不满、企图寻求解脱的自我体验之中，它对人的生活有很大影响。

想要推断出不良心境能够推动犯罪动机的形成，需要假设的前提是（ ）。

- A. 犯罪个体的心境本身，将会导致犯罪动机的形成
- B. 犯罪个体的心境，是由其需要是否得到满足所产生的情绪体验决定的
- C. 犯罪个体需要得不到满足，是犯罪行为的驱动力
- D. 犯罪个体气质和自我意识，会导致其心境呈弥散状态

105. 一名锅具制造厂商称，其公司自 1975 年以来生产的炒锅，至今仍然有 70% 以上在数千个家庭中使用，而其它品牌 1975 年来生产的同类型锅具，目前至多有三分之一没有被淘汰。该厂商发表如此言论的主要目的在于向消费者显示，其公司生产的锅具的质量上乘，耐用性好。

下列哪项如果为真，能够最有效地支持上述厂商的观点？（ ）。

- A. 该厂目前生产的锅具仍然使用与 1975 产锅具同样的材料
- B. 该厂的 1975 年生产的锅具相比同类产品价格偏高，因此用户更注意锅具的保养
- C. 自 1975 年以来，该公司每年生产的炒锅数量基本持平，没有显著增长
- D. 自 1975 年以来，其他公司同类型炒锅的年产量有显著增长

106. 重金属能够使蛋白质的结构发生不可逆的改变，蛋白质的结构改变功能就会丧失，长时间便会危及人的生命。但重金属离子与蛋白质结合后就不能再与其它蛋白质结合，因为该反应是不可逆的，热牛奶富含大量蛋白质，可以结合重金属离子，从而使得重金属离子尽量少的与人体的功能蛋白结合。因此，误服重金属后，应该立即灌服热牛奶进行解毒。

以下哪项为真，最能质疑上述做法的效果？（ ）

- A. 热牛奶中不少蛋白质都遇热凝固，无法再与重金属离子结合
- B. 不同的重金属中毒需要不同的物质来进行解毒
- C. 误服重金属后，可能短时间无法获得热牛奶
- D. 鸡蛋清中的蛋白质含量比热牛奶更多

107. 晨跑是指在早晨以跑步为主的进行身体锻炼的一种运动方式。不少人认为，由于早晨空气清新、温度适宜，因此坚持晨跑可以增强体质、提高免疫力、改善精神状态。

以下哪项为真，最能质疑上述做法的效果？（ ）

- A.晨跑应该尽量选择室外氧气充足的地方进行锻炼
- B.空气的杂质甚至细菌致病性的微生物会引起上呼吸道感染
- C.清晨空气中前一天悬浮在空中的尘埃也并未完全消失，空气相对混浊
- D.长期吸入空气中的烟尘和有毒气体，可能会出现乏力、头晕、咽喉炎等疾患

108. 甲认为在某市试行的降低失业率的新条例是不成功的，因为该条例试行的一年来失业率并没有改变。乙则认为由于在新条例试行前的三年间，该市失业率一直在上升，所以这个条例是成功的。

以下哪项证据最能反驳乙的论点？（ ）。

- A.该市的失业率从历史上来讲一直低于国内的其他城市
- B.直到新条例试行时，该市的失业率才稳定下来
- C.在新条例开始试行后，很多失业者选择去外市打工
- D.新条例的制订并没有经过相关专家的集体讨论

109. 研究表明快乐是跟遗传 DNA 有关的。研究者考察并分析了一千多对双胞胎的基因和成长环境，着重检查了他们有关愉悦情绪的基因。这个基因能传递让人产生愉悦情绪的“幸福分子”血清素到大脑，它有长短两个版本，长版本基因运载血清素的能力更强。研究员发现，携带一个长版本基因的人比没有长版本基因的人生活更容易满足的可能性高 8%，而有两个长版本基因的人则要高 17%。黑人平均有 1.47 个长基因，白人有 1.12 个，亚裔平均则只有 0.69 个。

如果以上说法为真，可以从上述题干中推导出的是（ ）。

- A.短版本基因运载血清素的能力不如长基因，但强于不含基因的
- B.拥有两个长基因的黑人数量一定多于拥有两个长基因的亚洲人数量
- C.携带两个长版本基因的人比只携带一个的人生活更容易满足的可能性高 9%
- D.黑人至少都有一个长基因，有些亚裔人可能一个长基因都没有

110. 俗话说“天下乌鸦一般黑”，那么如果一只鸟是白色的，一定不会是乌鸦。

下面使用的那种逻辑推理方法与题干最相似（ ）。

- A.降低房价会提高生活满意度，那么如果升高房价，一定会减弱生活满意度
- B.“知己知彼，百战不殆”，那么如果“百战不殆”，那么肯定能够更加了解对手
- C.勤奋学习就能取得好成绩，那么如果没有取得好成绩，一定是因为贪图享乐了
- D.加强锻炼能够增强人们的身体素质，那么如果疏于锻炼，人们的身体素质就会减弱

※※※ 第四部分结束，请继续做第五部分！ ※※※

第五部分 资料分析

(共 20 题, 参考时限 15 分钟)

所给出的图、表、文字或综合性资料均有若干的问题要你回答。你应根据资料提供的信息进行分析、比较、计算和判断处理。

请开始答题:

一、根据以下资料, 回答 111~115 题。

2011 年上半年国民经济保持平稳较快增长, 初步测算, 上半年国内生产总值 204459 亿元; 按可比价格计算, 第一季度同比增长 9.7%, 二季度同比增长 9.5%。分产业看, 第一产业增加值 15700 亿元, 增长 3.2%; 第二产业增加值 102178 亿元, 增长 11.0%; 第三产业增加值 86581 亿元, 增长 9.2%。从环比看, 二季度国内生产总值增长 2.2%。

农业生产总体稳定, 夏粮生产获得丰收。全国夏粮产量 12627 万吨, 比上年增产 312 万吨。上半年, 猪牛羊禽肉产量 3722 万吨, 同比增长 0.2%, 其中猪肉产量 2443 万吨, 下降 0.5%。

工业生产平稳增长, 企业效益继续增加。上半年, 全国规模以上工业企业产销率达到 97.8%, 规模以上工业企业产销率比上年同期提高 0.1 个百分点。分登记注册类型看, 国有及国有控股企业同比增长 16.1%; 集体企业增长 9.6%; 股份制企业增长 16.7%; 外商及港澳台投资企业增长 11.1%。分轻重工业看, 重工业同比增长 18.7%, 轻工业增长 13.1%。分行业看, 39 个大类行业均实现增长。分地区看, 东部地区同比增长 12.4%, 中部地区增长 17.8%, 西部地区增长 17.3%。

111. 2011 年上半年的国民生产总值约比 2010 年上半年增长 ()。

- A.6.3%
- B.9.6%
- C.11.0%
- D.12.2%

112. 2010 年上半年, 全国规模以上工业企业产销率为 ()。

- A.97.7%
- B.97.8%
- C.97.9%
- D.98.0%

113. 2010 年第二季度国内生产总值环比增加 ()。

- A.2.0%
- B.2.2%
- C.2.4%
- D.2.6%

114. 2011 年上半年效益增长最多的企业是 ()。

- A.国有及国有控股企业
- B.重工业企业
- C.股份制企业
- D.中部地区企业

115. 根据上述材料, 下列说法**错误**的是 ()。

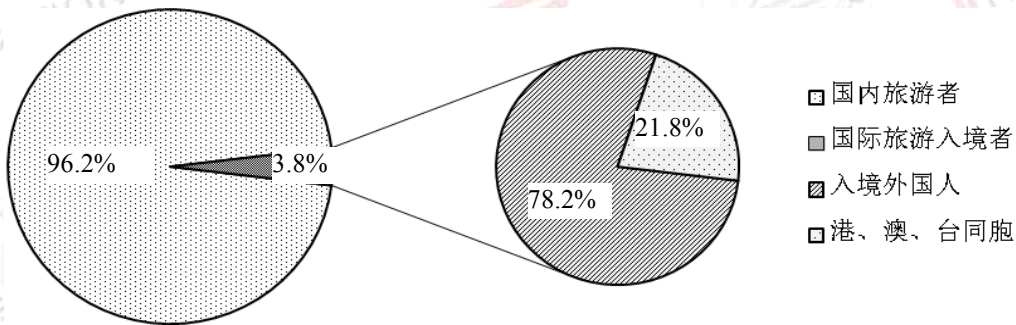
- A. 医院诊疗人次数由少到多依次为东部、中部、西部。
- B. 乡镇卫生院诊疗人数由多到少依次为东部、中部、西部。
- C. 医院住院人数由多到少依次为东部、中部、西部。
- D. 乡镇卫生院住院人数由多到少依次为东部、中部、西部。

三、根据以下资料，回答 121~125 题。

2010 年，上海市全年实现旅游产业增加值 1360.8 亿元，比上年增长 30.1%。至年末，全市已有星级宾馆 298 家，旅行社 1037 家，A 级旅游景区（点）61 家，红色旅游基地 30 个。

全年接待旅游人数 22314.25 万人次。在国际旅游入境人数中，过夜旅游人数 733.72 万人次，比上年增长 37.6%。在国内旅游者人数中，外省市来沪旅游者 11254.66 万人次，增长 32.7%。全年国际旅游外汇收入 64.05 亿美元，比上年增长 33.5%；国内旅游收入 2522.94 亿元，增长 31.8%。

中国 2010 年上海世博会是第一次在发展中国家举办的注册类世博会，吸引了包括 190 个国家、56 个国际组织在内的 246 个官方参展者，参观人数达到 7308 万人次。



全年来沪旅游者分布情况 (单位: 万人次)

121. 世博会吸引来的参观人次占全年旅游人次的 ()。

- A. 32.3%
- B. 32.8%
- C. 33.2%
- D. 33.7%

122. 根据饼图，港、澳、台同胞人次与国内旅游者人次的比值为 ()。

- A. 0.83%
- B. 0.86%
- C. 21.80%
- D. 22.66%

123. 2009 年在国际旅游入境人数中，过夜旅游人数达 ()。

- A. 457.8 万人次
- B. 533.2 万人次
- C. 578.7 万人次
- D. 663.1 万人次

124. 2010 年上海市入境外国人的数量为 ()。

- A. 456.8 万人次
- B. 663.1 万人次
- C. 847.9 万人次
- D. 964.6 万人次

125. 能够从上述资料中，下列说法正确的是 ()。

- A.2010年,上海市全年旅游收入达 2586.99 亿元
 B.2010年上海市民在本市的旅游人次多于外省市来沪旅游人次
 C.国际入境旅游者中,外国人比港、澳、台同胞多出两倍以上
 D.2010年上海市新增星级宾馆 298 家,旅行社 1037 家

四、根据以下资料,回答 126~130 题。

2011 年度,人力资源与社会保障部对全国 115 个城市的公共就业服务机构市场供求信息进行了统计分析。这 115 个城市分布在全国各大区域,拥有市区人口 1.95 亿,占全国地级以上城市市区人口的 50.4%;拥有市区从业人员(含城镇个体劳动者)约 5684 万人,约占全国地级以上城市市区从业人员的 58%。

从 2011 年全年总体情况看,监测城市劳动力的供求量相对去年都有所增长。按照单位性质来看,在企业用人需求中,内资企业用人需求占 75%,其中以私营企业、有限责任公司和股份有限公司的用人需求较大,其需求比重分别为 26.6%、24.3%和 9.6%;港、澳、台商投资企业的用人需求比重为 6.5%;外商投资企业的用人需求比重为 8.2%;个体经营的用人需求比重为 10.3%;国有、集体企业的用人需求比重仅为 5.3%。

与上年相比,总体上企业的用人需求比重下降了 0.3 个百分点。其中,内资企业的用人需求比重上升了 1.1 个百分点,港、澳、台商投资企业和外商投资企业的用人需求比重分别下降了 0.9 和 0.7 个百分点。

从各年度情况看,2003 年至 2011 年,私营及个体企业的用人需求比重趋于缓慢上升态势;国有和集体企业的用人需求比重呈现逐年下降趋势;外商及港澳台企业的用人需求比重波动中略有增长。

按用人单位性质分组的需求人数

单位性质	需求人数(人次)	所占比重(%)	与上年相比(百分点)
企业	*	*	-0.3
内资企业	15143741	*	1.1
国有企业	592553	2.8	-0.6
集体企业	481644	2.3	-0.4
股份合作企业	679682	3.2	-0.7
联营企业	394733	1.9	-0.3
有限责任公司	4898781	23.4	4.2
股份有限公司	1933150	9.2	-1
私营企业	5364170	*	-0.1
其他企业	799028	3.8	0.2
港、澳、台商投资企业	1305303	6.2	-0.9
外商投资企业	1651637	7.9	-0.7
个体经营	2078199	*	0.5
事业	119258	0.6	0.1
机关	45290	0.2	-
其他	589873	2.8	0.2
合计	20,933,301	100	/

126. 根据所给材料可以推算,2011 年全国地级以上城市市区从业人员占市区人口的比例为 ()。

A.24.9%

B.25.3%

C.29.1%

D.32.5%

127. 根据所给材料可以推算, 2011 年监测城市个体经营需求人数占所有企业需求人数的比例为 ()。

A.9.9%

B.10.3%

C.13.7%

D.42.4%

128. 根据所给材料, 下列选项不能推出的是 ()。

A.2003-2011 年监测城市私营企业需求人数所占比重平均每年增加的百分点小于 4

B.2003-2011 年监测城市个体企业需求人数所占比重平均每年增加的百分点小于 1.25

C.2010 年监测城市有限责任公司需求人数低于 450 万人

D.2010 年监测城市国有企业的需求人数超过 70 万人

129. 根据所给材料可以推算, 下列给出的 2010 年监测城市各用人单位需求人数所占比重超过 10% 的个数为 ()。

(1) 有限责任公司

(2) 股份有限公司

(3) 私营企业

(4) 外商投资企业 (含港澳台投资企业)

(5) 个体经营企业

A.2

B.3

C.4

D.5

130. 根据给出的材料, 下列说法肯定正确的是 ()。

A.2003-2011 年监测城市私营企业和个体企业的需求人数逐年增加。

B.2003-2011 年监测城市国有企业和集体企业的需求人数逐年减少。

C.2003-2011 年监测城市企业用人需求占绝对主导地位。

D.以上三个选项都正确

※※※ 全部测验到此结束! ※※※